

2023年度

社 会

(解答はすべて解答用紙に記入しなさい)

【1】 次の会話文は専業主婦のA子さんと、建設会社でパートタイマーとして働くB美さんが、スーパーで買い物中に会った際に交わしたものです。会話文を読み、あとの問いに答えなさい。

A子：あら。こんにちは、B美さん。仕事はもう終わったの？

B美：会社の働き方改革の一環で、今日は仕事が早上がりなの。晩御飯の買い物に來たのだけれど、
①パンも野菜もどれも②値上がりしているわね。
③

A子：新聞にはウクライナの紛争が原因で燃料の輸入が滞っているという記事が出ていたわ。円安が
④
⑤
⑥
⑦
⑧
⑨
⑩
⑪
⑫
⑬
⑭
⑮
⑯
⑰
⑱
⑲
⑳
㉑
㉒
㉓
㉔
㉕
㉖
㉗
㉘
㉙
㉚
㉛
㉜
㉝
㉞
㉟
㊱
㊲
㊳
㊴
㊵
㊶
㊷
㊸
㊹
㊺
㊻
㊼
㊽
㊾
㊿
㏀
㏁
㏂
㏃
㏄
㏅
㏆
㏇
㏈
㏉
㏊
㏋
㏌
㏍
㏎
㏏
㏐
㏑
㏒
㏓
㏔
㏕
㏖
㏗
㏘
㏙
㏚
㏛
㏜
㏝
㏞
㏟
㏠
㏡
㏢
㏣
㏤
㏥
㏦
㏧
㏨
㏩
㏪
㏫
㏬
㏭
㏮
㏯
㏰
㏱
㏲
㏳
㏴
㏵
㏶
㏷
㏸
㏹
㏺
㏻
㏼
㏽
㏾
㏿
㐀
㐁
㐂
㐃
㐄
㐅
㐆
㐇
㐈
㐉
㐊
㐋
㐌
㐍
㐎
㐏
㐐
㐑
㐒
㐓
㐔
㐕
㐖
㐗
㐘
㐙
㐚
㐛
㐜
㐝
㐞
㐟
㐠
㐡
㐢
㐣
㐤
㐥
㐦
㐧
㐨
㐩
㐪
㐫
㐬
㐭
㐮
㐯
㐰
㐱
㐲
㐳
㐴
㐵
㐶
㐷
㐸
㐹
㐺
㐻
㐼
㐽
㐾
㐿
㑀
㑁
㑂
㑃
㑄
㑅
㑆
㑇
㑈
㑉
㑊
㑋
㑌
㑍
㑎
㑏
㑐
㑑
㑒
㑓
㑔
㑕
㑖
㑗
㑘
㑙
㑚
㑛
㑜
㑝
㑞
㑟
㑠
㑡
㑢
㑣
㑤
㑥
㑦
㑧
㑨
㑩
㑪
㑫
㑬
㑭
㑮
㑯
㑰
㑱
㑲
㑳
㑴
㑵
㑶
㑷
㑸
㑹
㑺
㑻
㑼
㑽
㑾
㑿
㒀
㒁
㒂
㒃
㒄
㒅
㒆
㒇
㒈
㒉
㒊
㒋
㒌
㒍
㒎
㒏
㒐
㒑
㒒
㒓
㒔
㒕
㒖
㒗
㒘
㒙
㒚
㒛
㒜
㒝
㒞
㒟
㒠
㒡
㒢
㒣
㒤
㒥
㒦
㒧
㒨
㒩
㒪
㒫
㒬
㒭
㒮
㒯
㒰
㒱
㒲
㒳
㒴
㒵
㒶
㒷
㒸
㒹
㒺
㒻
㒼
㒽
㒾
㒿
㓀
㓁
㓂
㓃
㓄
㓅
㓆
㓇
㓈
㓉
㓊
㓋
㓌
㓍
㓎
㓏
㓐
㓑
㓒
㓓
㓔
㓕
㓖
㓗
㓘
㓙
㓚
㓛
㓜
㓝
㓞
㓟
㓠
㓡
㓢
㓣
㓤
㓥
㓦
㓧
㓨
㓩
㓪
㓫
㓬
㓭
㓮
㓯
㓰
㓱
㓲
㓳
㓴
㓵
㓶
㓷
㓸
㓹
㓺
㓻
㓼
㓽
㓾
㓿
㔀
㔁
㔂
㔃
㔄
㔅
㔆
㔇
㔈
㔉
㔊
㔋
㔌
㔍
㔎
㔏
㔐
㔑
㔒
㔓
㔔
㔕
㔖
㔗
㔘
㔙
㔚
㔛
㔜
㔝
㔞
㔟
㔠
㔡
㔢
㔣
㔤
㔥
㔦
㔧
㔨
㔩
㔪
㔫
㔬
㔭
㔮
㔯
㔰
㔱
㔲
㔳
㔴
㔵
㔶
㔷
㔸
㔹
㔺
㔻
㔼
㔽
㔾
㔿
㕀
㕁
㕂
㕃
㕄
㕅
㕆
㕇
㕈
㕉
㕊
㕋
㕌
㕍
㕎
㕏
㕐
㕑
㕒
㕓
㕔
㕕
㕖
㕗
㕘
㕙
㕚
㕛
㕜
㕝
㕞
㕟
㕠
㕡
㕢
㕣
㕤
㕥
㕦
㕧
㕨
㕩
㕪
㕫
㕬
㕭
㕮
㕯
㕰
㕱
㕲
㕳
㕴
㕵
㕶
㕷
㕸
㕹
㕺
㕻
㕼
㕽
㕾
㕿
㖀
㖁
㖂
㖃
㖄
㖅
㖆
㖇
㖈
㖉
㖊
㖋
㖌
㖍
㖎
㖏
㖐
㖑
㖒
㖓
㖔
㖕
㖖
㖗
㖘
㖙
㖚
㖛
㖜
㖝
㖞
㖟
㖠
㖡
㖢
㖣
㖤
㖥
㖦
㖧
㖨
㖩
㖪
㖫
㖬
㖭
㖮
㖯
㖰
㖱
㖲
㖳
㖴
㖵
㖶
㖷
㖸
㖹
㖺
㖻
㖼
㖽
㖾
㖿
㗀
㗁
㗂
㗃
㗄
㗅
㗆
㗇
㗈
㗉
㗊
㗋
㗌
㗍
㗎
㗏
㗐
㗑
㗒
㗓
㗔
㗕
㗖
㗗
㗘
㗙
㗚
㗛
㗜
㗝
㗞
㗟
㗠
㗡
㗢
㗣
㗤
㗥
㗦
㗧
㗨
㗩
㗪
㗫
㗬
㗭
㗮
㗯
㗰
㗱
㗲
㗳
㗴
㗵
㗶
㗷
㗸
㗹
㗺
㗻
㗼
㗽
㗾
㗿
㘀
㘁
㘂
㘃
㘄
㘅
㘆
㘇
㘈
㘉
㘊
㘋
㘌
㘍
㘎
㘏
㘐
㘑
㘒
㘓
㘔
㘕
㘖
㘗
㘘
㘙
㘚
㘛
㘜
㘝
㘞
㘟
㘠
㘡
㘢
㘣
㘤
㘥
㘦
㘧
㘨
㘩
㘪
㘫
㘬
㘭
㘮
㘯
㘰
㘱
㘲
㘳
㘴
㘵
㘶
㘷
㘸
㘹
㘺
㘻
㘼
㘽
㘾
㘿
㙀
㙁
㙂
㙃
㙄
㙅
㙆
㙇
㙈
㙉
㙊
㙋
㙌
㙍
㙎
㙏
㙐
㙑
㙒
㙓
㙔
㙕
㙖
㙗
㙘
㙙
㙚
㙛
㙜
㙝
㙞
㙟
㙠
㙡
㙢
㙣
㙤
㙥
㙦
㙧
㙨
㙩
㙪
㙫
㙬
㙭
㙮
㙯
㙰
㙱
㙲
㙳
㙴
㙵
㙶
㙷
㙸
㙹
㙺
㙻
㙼
㙽
㙾
㙿
㚀
㚁
㚂
㚃
㚄
㚅
㚆
㚇
㚈
㚉
㚊
㚋
㚌
㚍
㚎
㚏
㚐
㚑
㚒
㚓
㚔
㚕
㚖
㚗
㚘
㚙
㚚
㚛
㚜
㚝
㚞
㚟
㚠
㚡
㚢
㚣
㚤
㚥
㚦
㚧
㚨
㚩
㚪
㚫
㚬
㚭
㚮
㚯
㚰
㚱
㚲
㚳
㚴
㚵
㚶
㚷
㚸
㚹
㚺
㚻
㚼
㚽
㚾
㚿
㜀
㜁
㜂
㜃
㜄
㜅
㜆
㜇
㜈
㜉
㜊
㜋
㜌
㜍
㜎
㜏
㜐
㜑
㜒
㜓
㜔
㜕
㜖
㜗
㜘
㜙
㜚
㜛
㜜
㜝
㜞
㜟
㜠
㜡
㜢
㜣
㜤
㜥
㜦
㜧
㜨
㜩
㜪
㜫
㜬
㜭
㜮
㜯
㜰
㜱
㜲
㜳
㜴
㜵
㜶
㜷
㜸
㜹
㜺
㜻
㜼
㜽
㜾
㜿
㝀
㝁
㝂
㝃
㝄
㝅
㝆
㝇
㝈
㝉
㝊
㝋
㝌
㝍
㝎
㝏
㝐
㝑
㝒
㝓
㝔
㝕
㝖
㝗
㝘
㝙
㝚
㝛
㝜
㝝
㝞
㝟
㝠
㝡
㝢
㝣
㝤
㝥
㝦
㝧
㝨
㝩
㝪
㝫
㝬
㝭
㝮
㝯
㝰
㝱
㝲
㝳
㝴
㝵
㝶
㝷
㝸
㝹
㝺
㝻
㝼
㝽
㝾
㝿
㞀
㞁
㞂
㞃
㞄
㞅
㞆
㞇
㞈
㞉
㞊
㞋
㞌
㞍
㞎
㞏
㞐
㞑
㞒
㞓
㞔
㞕
㞖
㞗
㞘
㞙
㞚
㞛
㞜
㞝
㞞
㞟
㞠
㞡
㞢
㞣
㞤
㞥
㞦
㞧
㞨
㞩
㞪
㞫
㞬
㞭
㞮
㞯
㞰
㞱
㞲
㞳
㞴
㞵
㞶
㞷
㞸
㞹
㞺
㞻
㞼
㞽
㞾
㞿
㟀
㟁
㟂
㟃
㟄
㟅
㟆
㟇
㟈
㟉
㟊
㟋
㟌
㟍
㟎
㟏
㟐
㟑
㟒
㟓
㟔
㟕
㟖
㟗
㟘
㟙
㟚
㟛
㟜
㟝
㟞
㟟
㟠
㟡
㟢
㟣
㟤
㟥
㟦
㟧
㟨
㟩
㟪
㟫
㟬
㟭
㟮
㟯
㟰
㟱
㟲
㟳
㟴
㟵
㟶
㟷
㟸
㟹
㟺
㟻
㟼
㟽
㟾
㟿
㠀
㠁
㠂
㠃
㠄
㠅
㠆
㠇
㠈
㠉
㠊
㠋
㠌
㠍
㠎
㠏
㠐
㠑
㠒
㠓
㠔
㠕
㠖
㠗
㠘
㠙
㠚
㠛
㠜
㠝
㠞
㠟
㠠
㠡
㠢
㠣
㠤
㠥
㠦
㠧
㠨
㠩
㠪
㠫
㠬
㠭
㠮
㠯
㠰
㠱
㠲
㠳
㠴
㠵
㠶
㠷
㠸
㠹
㠺
㠻
㠼
㠽
㠾
㠿
㡀
㡁
㡂
㡃
㡄
㡅
㡆
㡇
㡈
㡉
㡊
㡋
㡌
㡍
㡎
㡏
㡐
㡑
㡒
㡓
㡔
㡕
㡖
㡗
㡘
㡙
㡚
㡛
㡜
㡝
㡞
㡟
㡠
㡡
㡢
㡣
㡤
㡥
㡦
㡧
㡨
㡩
㡪
㡫
㡬
㡭
㡮
㡯
㡰
㡱
㡲
㡳
㡴
㡵
㡶
㡷
㡸
㡹
㡺
㡻
㡼
㡽
㡾
㡿
㢀
㢁
㢂
㢃
㢄
㢅
㢆
㢇
㢈
㢉
㢊
㢋
㢌
㢍
㢎
㢏
㢐
㢑
㢒
㢓
㢔
㢕
㢖
㢗
㢘
㢙
㢚
㢛
㢜
㢝
㢞
㢟
㢠
㢡
㢢
㢣
㢤
㢥
㢦
㢧
㢨
㢩
㢪
㢫
㢬
㢭
㢮
㢯
㢰
㢱
㢲
㢳
㢴
㢵
㢶
㢷
㢸
㢹
㢺
㢻
㢼
㢽
㢾
㢿
㣀
㣁
㣂
㣃
㣄
㣅
㣆
㣇
㣈
㣉
㣊
㣋
㣌
㣍
㣎
㣏
㣐
㣑
㣒
㣓
㣔
㣕
㣖
㣗
㣘
㣙
㣚
㣛
㣜
㣝
㣞
㣟
㣠
㣡
㣢
㣣
㣤
㣥
㣦
㣧
㣨
㣩
㣪
㣫
㣬
㣭
㣮
㣯
㣰
㣱
㣲
㣳
㣴
㣵
㣶
㣷
㣸
㣹
㣺
㣻
㣼
㣽
㣾
㣿
㤀
㤁
㤂
㤃
㤄
㤅
㤆
㤇
㤈
㤉
㤊
㤋
㤌
㤍
㤎
㤏
㤐
㤑
㤒
㤓
㤔
㤕
㤖
㤗
㤘
㤙
㤚
㤛
㤜
㤝
㤞
㤟
㤠
㤡
㤢
㤣
㤤
㤥
㤦
㤧
㤨
㤩
㤪
㤫
㤬
㤭
㤮
㤯
㤰
㤱
㤲
㤳
㤴
㤵
㤶
㤷
㤸
㤹
㤺
㤻
㤼
㤽
㤾
㤿
㥀
㥁
㥂
㥃
㥄
㥅
㥆
㥇
㥈
㥉
㥊
㥋
㥌
㥍
㥎
㥏
㥐
㥑
㥒
㥓
㥔
㥕
㥖
㥗
㥘
㥙
㥚
㥛
㥜
㥝
㥞
㥟
㥠
㥡
㥢
㥣
㥤
㥥
㥦
㥧
㥨
㥩
㥪
㥫
㥬
㥭
㥮
㥯
㥰
㥱
㥲
㥳
㥴
㥵
㥶
㥷
㥸
㥹
㥺
㥻
㥼
㥽
㥾
㥿
㦀
㦁
㦂
㦃
㦄
㦅
㦆
㦇
㦈
㦉
㦊
㦋
㦌
㦍
㦎
㦏
㦐
㦑
㦒
㦓
㦔
㦕
㦖
㦗
㦘
㦙
㦚
㦛
㦜
㦝
㦞
㦟
㦠
㦡
㦢
㦣
㦤
㦥
㦦
㦧
㦨
㦩
㦪
㦫
㦬
㦭
㦮
㦯
㦰
㦱
㦲
㦳
㦴
㦵
㦶
㦷
㦸
㦹
㦺
㦻
㦼
㦽
㦾
㦿
㧀
㧁
㧂
㧃
㧄
㧅
㧆
㧇
㧈
㧉
㧊
㧋
㧌
㧍
㧎
㧏
㧐
㧑
㧒
㧓
㧔
㧕
㧖
㧗
㧘
㧙
㧚
㧛
㧜
㧝
㧞
㧟
㧠
㧡
㧢
㧣
㧤
㧥
㧦
㧧
㧨
㧩
㧪
㧫
㧬
㧭
㧮
㧯
㧰
㧱
㧲
㧳
㧴
㧵
㧶
㧷
㧸
㧹
㧺
㧻
㧼
㧽
㧾
㧿
㨀
㨁
㨂
㨃
㨄
㨅
㨆
㨇
㨈
㨉
㨊
㨋
㨌
㨍
㨎
㨏
㨐
㨑
㨒
㨓
㨔
㨕
㨖
㨗
㨘
㨙
㨚
㨛
㨜
㨝
㨞
㨟
㨠
㨡
㨢
㨣
㨤
㨥
㨦
㨧
㨨
㨩
㨪
㨫
㨬
㨭
㨮
㨯
㨰
㨱
㨲
㨳
㨴
㨵
㨶
㨷
㨸
㨹
㨺
㨻
㨼
㨽
㨾
㨿
㩀
㩁
㩂
㩃
㩄
㩅
㩆
㩇
㩈
㩉
㩊
㩋
㩌
㩍
㩎
㩏
㩐
㩑
㩒
㩓
㩔
㩕
㩖
㩗
㩘
㩙
㩚
㩛
㩜
㩝
㩞
㩟
㩠
㩡
㩢
㩣
㩤
㩥
㩦
㩧
㩨
㩩
㩪
㩫
㩬
㩭
㩮
㩯
㩰
㩱
㩲
㩳
㩴
㩵
㩶
㩷
㩸
㩹
㩺
㩻
㩼
㩽
㩾
㩿
㪀
㪁
㪂
㪃
㪄
㪅
㪆
㪇
㪈
㪉
㪊
㪋
㪌
㪍
㪎
㪏
㪐
㪑
㪒
㪓
㪔
㪕
㪖
㪗
㪘
㪙
㪚
㪛
㪜
㪝
㪞
㪟
㪠
㪡
㪢
㪣
㪤
㪥
㪦
㪧
㪨
㪩
㪪
㪫
㪬
㪭
㪮
㪯
㪰
㪱
㪲
㪳
㪴
㪵
㪶
㪷
㪸
㪹
㪺
㪻
㪼
㪽
㪾
㪿
㫀
㫁
㫂
㫃
㫄
㫅
㫆
㫇
㫈
㫉
㫊
㫋
㫌
㫍
㫎
㫏
㫐
㫑
㫒
㫓
㫔
㫕
㫖
㫗
㫘
㫙
㫚
㫛
㫜
㫝
㫞
㫟
㫠
㫡
㫢
㫣
㫤
㫥
㫦
㫧
㫨
㫩
㫪
㫫
㫬
㫭
㫮
㫯
㫰
㫱
㫲
㫳
㫴
㫵
㫶
㫷
㫸
㫹
㫺
㫻
㫼
㫽
㫾
㫿
㬀
㬁
㬂
㬃
㬄
㬅
㬆
㬇
㬈
㬉
㬊
㬋
㬌
㬍
㬎
㬏
㬐
㬑
㬒
㬓
㬔
㬕
㬖
㬗
㬘
㬙
㬚
㬛
㬜
㬝
㬞
㬟
㬠
㬡
㬢
㬣
㬤
㬥
㬦
㬧
㬨
㬩
㬪
㬫
㬬
㬭
㬮
㬯
㬰
㬱
㬲
㬳
㬴
㬵
㬶
㬷
㬸
㬹
㬺
㬻
㬼
㬽
㬾
㬿
㭀
㭁
㭂
㭃
㭄
㭅
㭆
㭇
㭈
㭉
㭊
㭋
㭌
㭍
㭎
㭏
㭐
㭑
㭒
㭓
㭔
㭕
㭖
㭗
㭘
㭙
㭚
㭛
㭜
㭝
㭞
㭟
㭠
㭡
㭢
㭣
㭤
㭥
㭦
㭧
㭨
㭩
㭪
㭫
㭬
㭭
㭮
㭯
㭰
㭱
㭲
㭳
㭴
㭵
㭶
㭷
㭸
㭹
㭺
㭻
㭼
㭽
㭾
㭿
㮀
㮁
㮂
㮃
㮄
㮅
㮆
㮇
㮈
㮉
㮊
㮋
㮌
㮍
㮎
㮏
㮐
㮑
㮒
㮓
㮔
㮕
㮖
㮗
㮘
㮙
㮚
㮛
㮜
㮝
㮞
㮟
㮠
㮡
㮢
㮣
㮤
㮥
㮦
㮧
㮨
㮩
㮪
㮫
㮬
㮭
㮮
㮯
㮰
㮱
㮲
㮳
㮴
㮵
㮶
㮷
㮸
㮹
㮺
㮻
㮼
㮽
㮾
㮿
㯀
㯁
㯂
㯃
㯄
㯅
㯆
㯇
㯈
㯉
㯊
㯋
㯌
㯍
㯎
㯏
㯐
㯑
㯒
㯓
㯔
㯕
㯖
㯗
㯘
㯙
㯚
㯛
㯜
㯝
㯞
㯟
㯠
㯡
㯢
㯣
㯤
㯥
㯦
㯧
㯨
㯩
㯪
㯫
㯬
㯭
㯮
㯯
㯰
㯱
㯲
㯳
㯴
㯵
㯶
㯷
㯸
㯹
㯺
㯻
㯼
㯽
㯾
㯿
㰀
㰁
㰂
㰃
㰄
㰅
㰆
㰇
㰈
㰉
㰊
㰋
㰌
㰍
㰎
㰏
㰐
㰑
㰒
㰓
㰔
㰕
㰖
㰗
㰘
㰙
㰚
㰛
㰜
㰝
㰞
㰟
㰠
㰡
㰢
㰣
㰤
㰥
㰦
㰧
㰨
㰩
㰪
㰫
㰬
㰭
㰮
㰯
㰰
㰱
㰲
㰳
㰴
㰵
㰶
㰷
㰸
㰹
㰺
㰻
㰼
㰽
㰾
㰿
㱀
㱁
㱂
㱃
㱄
㱅
㱆
㱇
㱈
㱉
㱊
㱋
㱌
㱍
㱎
㱏
㱐
㱑
㱒
㱓
㱔
㱕
㱖
㱗
㱘
㱙
㱚
㱛
㱜
㱝
㱞
㱟
㱠
㱡
㱢
㱣
㱤
㱥
㱦
㱧
㱨
㱩
㱪
㱫
㱬
㱭
㱮
㱯
㱰
㱱
㱲
㱳
㱴
㱵
㱶
㱷
㱸
㱹
㱺
㱻
㱼
㱽
㱾
㱿
㲀
㲁
㲂
㲃
㲄
㲅
㲆
㲇
㲈
㲉
㲊
㲋
㲌
㲍
㲎
㲏
㲐
㲑
㲒
㲓
㲔
㲕
㲖
㲗
㲘
㲙
㲚
㲛
㲜
㲝
㲞
㲟
㲠
㲡
㲢
㲣
㲤
㲥
㲦
㲧
㲨
㲩
㲪
㲫
㲬
㲭
㲮
㲯
㲰
㲱
㲲
㲳
㲴
㲵
㲶
㲷
㲸
㲹
㲺
㲻
㲼
㲽
㲾
㲿
㳀
㳁
㳂
㳃
㳄
㳅
㳆
㳇
㳈
㳉
㳊
㳋
㳌
㳍
㳎
㳏
㳐
㳑
㳒
㳓
㳔
㳕
㳖
㳗
㳘
㳙
㳚
㳛
㳜
㳝
㳞
㳟
㳠
㳡
㳢
㳣
㳤
㳥
㳦
㳧
㳨
㳩
㳪
㳫
㳬
㳭
㳮
㳯
㳰
㳱
㳲
㳳
㳴
㳵
㳶
㳷
㳸
㳹
㳺
㳻
㳼
㳽
㳾
㳿
㴀
㴁
㴂
㴃
㴄
㴅
㴆
㴇
㴈
㴉
㴊
㴋
㴌
㴍
㴎
㴏
㴐
㴑
㴒
㴓
㴔
㴕
㴖
㴗
㴘
㴙
㴚
㴛
㴜
㴝
㴞
㴟
㴠
㴡
㴢
㴣
㴤
㴥
㴦
㴧
㴨
㴩
㴪
㴫
㴬
㴭
㴮
㴯
㴰
㴱
㴲

問2 下線部②に関して、私たちには自分の判断で職業を選ぶ自由があります。自由について示したA～Cの事柄と最も関係の深い語句をⅠ～Ⅲから選び、その組み合わせとして正しいものをあとのア～カから1つ選び、記号で答えなさい。

- A 第二次世界大戦が終わるころまで、政府に不都合な内容の新聞や本が発行禁止になることがあった。
- B 商標登録された企業のブランド名やロゴマークなどは、企業の利益を守るため、勝手に利用できないようになっている。
- C 我が国では、現行犯の場合を除き、裁判官の令状（逮捕状）無しに逮捕されることがないようになっている。

Ⅰ 経済活動の自由 Ⅱ 精神の自由 Ⅲ 生命身体の自由

- ア A-Ⅰ B-Ⅱ C-Ⅲ イ A-Ⅰ B-Ⅲ C-Ⅱ
- ウ A-Ⅱ B-Ⅰ C-Ⅲ エ A-Ⅱ B-Ⅲ C-Ⅰ
- オ A-Ⅲ B-Ⅰ C-Ⅱ カ A-Ⅲ B-Ⅱ C-Ⅰ

問3 下線部③に関して、市場価格は需要と供給の関係性が一因となって成立します。次の資料は3泊5日のロンドン旅行ツアーに関する料金表です。表中のア～オはそれぞれが同じ料金プランであることを示しており、280,000円、310,000円、330,000円、350,000円、380,000円のいずれかになっています。380,000円に当てはまる期間をア～オから1つ選び、記号で答えなさい。

8月						
日	月	火	水	木	金	土
1 ア	2 ア	3 イ	4 イ	5 イ	6 イ	7 イ
8 ウ	9 ウ	10 エ	11 エ	12 エ	13 エ	14 エ
15 ウ	16 ウ	17 ウ	18 ウ	19 ウ	20 ウ	21 イ
22 イ	23 イ	24 イ	25 ア	26 ア	27 ア	28 ア
29 ア	30 オ	31 オ				

問4 下線部④に関して、為替変動の影響について述べた下の文章中の（X）～（Z）に当てはまる語句の組合せとして正しいものをあとのア～クから1つ選び、記号で答えなさい。

家電製品を製造する日本の企業S社では（X）を追い風にアメリカへの輸出を大幅に伸ばした。また、家電製品を製造するために必要な半導体の輸入価格は（X）の影響で（Y）していた。そこでS社は（X）を背景に（Z）の投資を積極的に促し、人工知能を用いた新たな家電製品を開発することで、製品に高付加価値をつけることに成功した。

- ア X=円高 Y=上昇 Z=海外へ イ X=円高 Y=上昇 Z=海外から
- ウ X=円高 Y=下降 Z=海外へ エ X=円高 Y=下降 Z=海外から
- オ X=円安 Y=上昇 Z=海外へ カ X=円安 Y=上昇 Z=海外から
- キ X=円安 Y=下降 Z=海外へ ク X=円安 Y=下降 Z=海外から

問5 下線部⑤に関して、国会には参議院と衆議院があり、国の政治が停滞しないようにするため、様々な場面で衆議院の意志が参議院に優越するようになっています。衆議院の優越について述べた文ア～エのうち、正しい文をすべて選び、記号で答えなさい。ただし、正しい文が無い場合はオと答えなさい。

- ア 法案の審議に関して衆参で議決が異なった場合、必ず両議院から代表者が選出されて両院協議会が開催される。それでも意見が不一致の場合、衆議院の議決が国会の議決となる。
- イ 内閣総理大臣の指名に関して、衆議院での議決後、10日以内に参議院が議決をしない場合は衆議院で再議決が行われ、出席議員の3分の2以上の賛成で衆議院の議決が国会の議決となる。
- ウ 法律案の審議に関しては、衆議院から先に議決を行うことになっている。
- エ 内閣不信任の決議に関しては、衆議院だけに行う権限が認められている。

問6 下線部⑥に関して述べた文Ⅰ～Ⅳについて、正しいものの組み合わせをあとのア～カから1つ選び、記号で答えなさい。

- Ⅰ 現在の日本では有権者が責任をもって投票できるよう、投票用紙に記名をすることが義務付けられている。
- Ⅱ 現在の日本では一定の年齢に達したすべての国民に選挙権と被選挙権が与えられることになっている。
- Ⅲ 各選挙区における議員一人あたりの有権者数が異なる問題を「一票の格差」といい、平等権を侵害する違憲状態であるという判決が最高裁判所で下されたこともある。
- Ⅳ 各選挙区から1人を選ぶ選挙制度を小選挙区制といい、参議院議員選挙においては小選挙区制と比例代表制を組み合わせた選挙が行われている。

- | | | |
|-------|-------|-------|
| ア Ⅰ・Ⅱ | イ Ⅰ・Ⅲ | ウ Ⅰ・Ⅳ |
| エ Ⅱ・Ⅲ | オ Ⅱ・Ⅳ | カ Ⅲ・Ⅳ |

問7 下線部⑦に関して、感染症予防は公衆衛生と呼ばれ、社会保障制度の4つの柱のうちの1つであり、日本国憲法第25条を実現するための制度です。次の日本国憲法第25条の条文中の(★)に当てはまる語句と、日本国憲法第25条が保障する基本的人権の組み合わせとして正しいものをあとのア～エから1つ選び、記号で答えなさい。

すべて国民は、()で(★)な()の生活を営む権利を有する。


- | | |
|-----------|-----------|
| ア (★)=文化的 | 基本的人権=自由権 |
| イ (★)=文化的 | 基本的人権=生存権 |
| ウ (★)=健康的 | 基本的人権=自由権 |
| エ (★)=健康的 | 基本的人権=生存権 |

問8 下線部⑧に関して、経済について述べた文ア～エのうち、正しい文をすべて選び、記号で答えなさい。ただし、正しい文が無い場合はオと答えなさい。

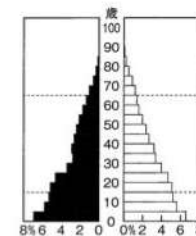
- ア 食料品や工業製品だけでなく水道や電力などを含むすべての財やサービスについて、独占禁止法に基づく自由な価格競争が認められている。
- イ 日本銀行は通貨量を調節して景気や物価の安定を図っている。例えば景気の悪いときには、国債を買い上げることによって市場の通貨量を増やす政策を実施している。
- ウ 企業が事業拡大などを行う際、社債などの債券を発行して資金を調達する直接金融のほかに、株式を発行し証券会社を通じて株主から資金を調達する間接金融がある。
- エ かつて日本では経済偏重による公害が社会問題となったが、環境保全への意識の高まりから、1993年に環境基本法が制定され、その後、環境庁が発足した。

問9 下線部⑨に関して、次の資料A～Cは年代別の日本の人口ピラミッドを示したものです。資料A～Cについて年代の古い順に並べたものとして、正しいものをあとのア～カから1つ選び、記号で答えなさい。

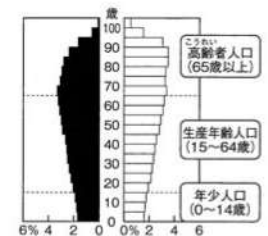
資料A



資料B



資料C



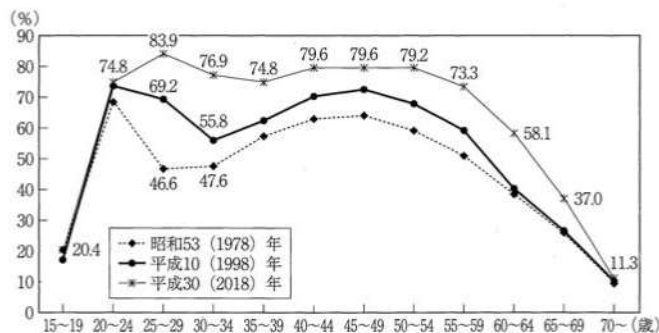
- | | | |
|---------|---------|---------|
| ア A→B→C | イ A→C→B | ウ B→A→C |
| エ B→C→A | オ C→A→B | カ C→B→A |

問10 下線部⑩に関して、次の資料は憲法改正について定めた日本国憲法第96条の条文です。資料中の（ X ）～（ Z ）に当てはまる語句の組み合わせとして正しいものをあとのア～クから1つ選び、記号で答えなさい。

この憲法の改正は、各議院の（ X ）の3分の2以上の賛成で、（ Y ）が、これを発議し、国民に提案してその承認を経なければならない。この承認には、特別の国民投票又は国会の定める選挙の際行はれる投票において、その（ Z ）の賛成を必要とする。

- ア X：総議員 Y：内閣 Z：過半数 イ X：総議員 Y：内閣 Z：3分の2以上
ウ X：総議員 Y：国会 Z：過半数 エ X：総議員 Y：国会 Z：3分の2以上
オ X：出席議員 Y：内閣 Z：過半数 カ X：出席議員 Y：内閣 Z：3分の2以上
キ X：出席議員 Y：国会 Z：過半数 ク X：出席議員 Y：国会 Z：3分の2以上

問11 下線部㉑に関して、次の図は日本の女性の労働力率の推移を示したものです。日本の女性の労働力率の向上は、1985年に労働に関するある法律が制定されたことが背景にあります。この法律の名前を漢字で答えなさい。



- (備考) 1. 総務省「労働力調査 (基本集計)」より作成。
2. 労働力率は、「労働力人口 (就業者+完全失業者)」/「15歳以上人口」×100。

問12 下線部㉒に関して、インターネットの普及により、現在は新聞やテレビだけでなく、SNS などを通じて様々な情報を獲得することができるようになってきました。こうした多様な情報の真否を、客観的・批判的に判断し、活用できる能力を何といいますか。すべてカタカナで答えなさい。

問13 下線部㉓に関して、同盟国が他国に攻撃された際に、これを自国への攻撃とみなして、攻撃を受けた同盟国と協調して防衛にあたる権利を何といいますか。漢字で答えなさい。

問14 下線部㉔に関して、政治家と特定の企業や団体が結びつき違法な資金集めや票の買収などが行われることのないように、国が政党の活動を支援するために分配する資金を何といいますか。漢字で答えなさい。

問15 下線部㉕に関して、所得税などに適用されている、所得が多い人ほど高い税率が適用される制度を何といいますか。漢字で答えなさい。

問16 下線部㉖に関して、次の資料は日本国憲法第26条の条文です。資料中の（ ★ ）に当てはまる語句を漢字で答えなさい。

すべて国民は、法律の定めるところにより、その保護する子女に（ ★ ）を受けさせる義務を負ふ。… (略) …

問17 下線部㉗に関して、プライバシーの権利を保護するために2003年に制定された法律を何といいますか。漢字で答えなさい。

問18 下線部㉘に関して、訪問販売や電話勧誘などによる商品の販売の場合、8日以内であれば無条件に契約の解除ができる制度を何といいますか。すべてカタカナで答えなさい。

問19 下線部㉙に関して、北海道で暮らすアイヌの人々の伝統文化を継承・振興させるため、1997年に施行された法律を何といいますか。

問20 下線部㉚に関して、名護市辺野古沖への移設が進められている沖縄県宜野湾市の米軍基地を何といいますか。漢字で答えなさい。

【2】 次の文章を読み、以下の問いに答えなさい。

縄文時代の人々は（ A ）で暮らしていました。中央に炉が置かれ、それを囲って人々は生活していました。古墳時代になるとそこに煮炊き用のかまどが置かれるようになり、室内を広く使えるようになりました。実は、かまどは1950年代まで使われており、田舎の親戚の家で埃をかぶったかまどを見かけた人もいるかもしれません。

弥生時代になると、（ A ）の中に土を高く盛って寝床とするようになったようで、これを「土コ」と言いました。それ以外が土間ということになります。（ A ）は平安時代には次第に平地住居に代わっていきました。

仏教が伝わり寺院が建立されると、寺院では土間の上に台座を置き、その上に仏像を安置しました。いっぽう、寺院とは対照的に神社は高床になっており、板張りの床になっていました。貴族はその高床を住居に取り入れました。このことは、法隆寺伝法堂（聖武天皇の夫人の住宅を仏堂に改造したもの）が当時のお堂としては珍しく床が板張りとなっていたことからわかります。正倉院宝物には聖武天皇のベッドも残されています。

平安時代の新しい建築様式として、寝殿造が現れました。母屋である正殿を中心に東西や北に家族が生活する対屋が造られ、それらを廊下で繋ぎました。これらのすべての建物に板敷きの床があります。正殿に寝所があり、広い板敷きの正殿は衝立や屏風・几帳で仕切られました。

鎌倉時代の武士の家は、母屋の中に寝る場所・侍が詰める場所や応接間などがありました。これらの建物はすべて板敷きの床です。ただ、寝殿造と異なるのは、周囲に堅固な塀や堀をめぐらせている点です。この建築様式を武家造といい、『一遍上人絵伝』にその様子が描かれています。

室町時代になると、板敷きの母屋は襖で仕切られ、いくつかの部屋が造られました。そして、寝室・書斎などの床には全面に畳が敷き詰められました。室町幕府 8代将軍（ B ）が建立した慈照寺東求堂はその代表的な例です。さらに時代が下ると、すべての部屋に畳が敷かれることになりました。

右の図は江戸城本丸御殿大広間を描いたものです。すべて畳が敷かれていることがわかります。徳川綱吉が諸大名の前に姿を現し、諸大名が頭を下げている様子です。



畳が部屋全体に敷かれると、敷き布団と掛け布団が使われるようになりました。はじめ、掛け布団は服の形をしていたようで、古くから寒いときには服を掛け布団の代わりに掛けていました。元禄時代頃から京都・大阪で「長方形の掛け布団」が現れ、現在の寝具に近いものが登場しました。しかし、布団などを買うものは裕福な

ものだけでした。鈴木牧之の『北越雪譜』には、「秋山の人はすべて冬も着るままにて臥す」とあり、貧しい人々には寝具はなかったようです。

幕末、1853年に（ C ）が率いる黒船が来航して日本は開国しました。1857年、総領事ハリスは江戸城に登城して初めて徳川家定と謁見しました。この時、ハリスは西洋式の礼法に従い、靴を履いたまま畳敷きの部屋に入り、跪くことなく、立ったまま将軍に謁見しました。日本の礼法は採用されませんでした。ハリス登城の翌年、（ D ）条約が結ばれ、貿易が始まりました。

明治維新以降、文明開化の幕開けとともに西洋建築が日本へ広がりましたが、住宅では伝統が受けつがれ、木造の床の部屋すべてに畳が敷き詰められました。しかし、明治末頃から、一般の一戸建て住宅においても洋式を取り入れて、一室を板張りの床とするようになりました。

日本人の食事は、江戸時代まで一人一人が箱膳を置いて摂るもので、家族全員で食べるものではありませんでした。必要に応じて一人一人が別々に食べていたものが、明治時代になって家族本位の考え方が普及していきます。さらに、大正時代になるとサラリーマンと主婦という家族形態が現れ、食事は家族みんなで食べるものへと変化し、箱膳は家族が同時に食卓を囲むことができる卓袱台に代わっていきました。これを置いた畳敷きの部屋が居間です。

そして、大正から昭和初期にかけて居間を中心とした和風住宅で、玄関脇に洋風の板敷きの応接間を付けた住宅が広がりました。これを文化住宅といいます。1923年におこった関東大震災で建て替えが必要になり、大きなブームとなりました。こうして、次第に和風住宅に板敷きの部屋（洋間）が取り入れられることになりました。しかし、1931年9月におこった（ E ）事件をきっかけに満州事変が始まり、1937年7月には日中戦争が始まるなど、戦争が泥沼化するなかで、次第に文化住宅は建てられなくなっていきました。

戦後、日本は連合国に占領されましたが、事実上は連合国軍最高指令官となった（ F ）元帥のアメリカ軍が単独で日本を占領しました。アメリカ的な生活様式や文化が流れ込み、卓袱台がテーブルに、畳敷きの床はフローリング（板敷き）となり、板敷きと畳敷きの比率は逆転しました。1953年テレビ放送が始まると、テレビは居間・応接間に置かれました。接待する応接間が家族の団らんに使われるようになり、家の中心は居間から応接間に移りました。そして、応接間はリビング（居間）と言われるようになり、家族の生活の場の多くが板敷きの洋室に代わっていきました。

問1 下線部aのかまどの写真としてふさわしいものを、次の①～④のうちから1つ選び、番号で答えなさい。

①



②



③



④



問2 下線部bについて、法隆寺を建立した人物が行った政策として正しいものを、次の①～④のうちから1つ選び、番号で答えなさい。

- ① 南宋に使者を派遣し、対等な立場で国交を結ぼうとした。
- ② 大王（天皇）が全国の土地を支配し、人民に口分田を与えた。
- ③ 太政大臣・大納言など新しい役職を創設し、個人の才能によって役人を選んだ。
- ④ 役人として天皇に仕える心構えを示すため、十七条の憲法を定めた。

問3 下線部cについて、正倉院宝物は、聖武天皇の死後その妻が、彼の遺愛の品々をある寺院に寄進したものを中心に集められた品々です。この寺院の名称を漢字で答えなさい。ちなみに、その品々が納められている倉が正倉院です。

問4 下線部dの聖武天皇の政策として正しいものを、次の①～④のうちから1つ選び、番号で答えなさい。

- ① 遣隋使を派遣し中国隋の高度な文化を日本に取り入れようとした。
- ② 百済を再興しようとして、大軍を派遣したが、隋・新羅連合軍に敗れた。
- ③ 各国に国分寺・国分尼寺を建立し、仏教の力で国家を守ろうとした。
- ④ 日本の招きに応じて来日した空海は、紀伊国に金剛峯寺を建立した。

問5 下線部eの寝殿造の建物を次の①～④のうちから1つ選び、番号で答えなさい。

①



②



③



④



問6 下線部fの鎌倉時代の武士は武芸をみがき、名誉を重んじました。彼らは武芸をみがぐために色々な訓練を行いましたが、そのなかで、馬を走らせながら馬上から三つの的を射る訓練法を何といいますか。

問7 下線部gは一遍の生涯を描いた絵巻物です。一遍の説明として正しいものを、次の①～④のうちから1つ選び、番号で答えなさい。

- ① 阿弥陀仏の救いを信じてひたすら念仏を唱えよと説いた。
- ② 各地を遍歴し、念仏の札を配り、踊念仏という独自の布教方法を生み出した。
- ③ ただひたすら座禅に徹せよと説いた。
- ④ シャカが亡くなって2000年目から末法に入り世の中は乱れるので、仏教を信じなさいと説いた。

問8 下線部hの室町幕府の説明として正しいものを、次の①～④のうちから1つ選び、番号で答えなさい。

- ① 足利尊氏が北朝の光明天皇から征夷大將軍に任じられ、室町幕府をひらいた。
- ② 南北朝時代を通じて地頭が力を持つようになり、国内の軍事・警察の任務を任されるようになった。
- ③ 関東には六波羅探題が置かれ、長官には北条氏一族が任命された。
- ④ 足利義満は貿易船に倭寇と区別するために義満と署名された朱印状を与え、明と貿易を始めた。

問9 下線部iについて、東求堂の一室である同仁齋には違い棚や付書院・襖を設け、畳が敷き詰められています。このような建築様式を何といいますか。漢字で答えなさい。

問10 下線部jの徳川綱吉の説明として正しいものを、次の①～④のうちから1つ選び、番号で答えなさい。

- ① 將軍の代替わり毎に琉球王国から通信使が江戸に訪れるようになった。
- ② 徳川家康を尊敬し、日光東照宮を建立し、家康の遺骨をここに移した。
- ③ 儒学、特に朱子学を重んじ、湯島に聖堂を移し、学問を奨励した。
- ④ 公平な裁判を行うため、公事方御定書という法令集をつくった。

問11 下線部kの元禄時代の説明として誤っているものを、次の①～④のうちから1つ選び、番号で答えなさい。

- ① 京都・大阪地方をさす上方を中心に商業が発達し、都市が繁栄した。
- ② 菱川師宣は、町人の風俗を美しく描く浮世絵版画を始めた。
- ③ 井原西鶴は当時の世相や町人・武士の暮らしをありのままに小説にした。
- ④ 東洲斎写楽は人気の歌舞伎役者を描いて、もてはやされた。

問12 下線部lの鈴木牧之は越後の人で、曲亭（滝沢）馬琴ら江戸の文化人と交わり、この『北越雪譜』を刊行して江戸の人々に雪国の自然や生活を紹介しました。牧之と親交のあった馬琴は、減びた安房の豪族里見家が再興される長編小説を著していますが、この小説を何といいますか。漢字で答えなさい。

問13 下線部mの文明開化期についての説明として誤っているものを、次の①～④のうちから1つ選び、番号で答えなさい。

- ① 政府は学制を定めて国民皆学に基づいて、小学校教育を受けることを国民の義務とした。
- ② 板垣退助は立憲改進黨を、大隈重信は自由党を結成した。
- ③ 人々は断髪し、洋服を着て靴をはくなどの変化が見られた。
- ④ 福沢諭吉や中江兆民が欧米の新しい思想を紹介した。

問14 下線部nについて、この時期日本はかつて経験したことがないような好景気を迎えました。この好景気を何といいますか。漢字で答えなさい。

問15 下線部oについて、居間の様子を表しているものとしてふさわしいものを、次の①～④のうちから1つ選び、番号で答えなさい。

①



②



③



④



問16 下線部pの関東大震災に関する説明として正しいものを、次の①～④のうちから1つ選び、番号で答えなさい。

- ① 地震と津波により大きな被害が発生し、死者・行方不明者は2万人近くに上った。
- ② 東京・名古屋・大阪で始まったラジオ放送が、大震災の様子を全国に伝えた。
- ③ 混乱の中で、朝鮮や中国の人々が殺されたり、社会主義者が殺されたりした。
- ④ 米価が急に高くなり、各地で米屋などを襲う騒動が発生した。

問17 下線部qの事変によって、満州国がつくられました。この国の元首となった清の最後の皇帝は誰ですか。

問18 下線部rの日中戦争中に起こった出来事として誤っているものを、次の①～④のうちから1つ選び、番号で答えなさい。

- ① ドイツがソ連と独ソ不可侵条約を結んだ。
- ② アメリカのローズベルト（ルーズベルト）大統領とイギリスのチャーチル首相は、大西洋憲章を発表し、ファシズムに対決する決意を示した。
- ③ 国家改造を目指す陸軍の青年将校が、部隊を率いて大臣などを殺害し、東京の中心部を占拠した。
- ④ 広島・長崎に原子爆弾が投下され、日本はポツダム宣言を受諾した。

問19 下線部sの占領のもとで、政府が地主の農地を買い上げ、小作人に安く売り渡す農地改革が実施されました。その結果、自らの土地を耕作する農民が大幅に増え、日本の農業を発展させることになりました。この農民を何といいますか。漢字3字で答えなさい。

問20 下線部tのテレビは高度経済成長期に各家庭に普及しました。高度経済成長期に関する説明として誤っているものを、次の①～④のうちから1つ選び、番号で答えなさい。

- ① ベトナム戦争によって発生した特需景気が、高度経済成長の始まりとなった。
- ② 日本の成長の姿を世界に示すために、東京オリンピックが開催された。
- ③ 新潟水俣病・四日市ぜんそく・イタイイタイ病・水俣病などの公害が大きな社会問題となった。
- ④ 日本の国民総生産（GNP）が、資本主義国家の中でアメリカに次いで第二位となった。

問21 文章中の（ A ）～（ F ）にあてはまる最も適当な語句を答えなさい。ただし、（ C ）・（ F ）以外は漢字で答えなさい。

【3】 次の表1と文章をみて、あとの問いに答えなさい。

表1 世界各國のSDGsランキング(トップ20)と達成度スコア

順位	国名	達成度スコア	順位	国名	達成度スコア
1位	フィンランド	85.9	11位	<u>オランダ</u> ⑤	81.6
2位	<u>スウェーデン</u> ①	85.6	12位	チェコ	81.4
3位	デンマーク	84.9	13位	アイルランド	81.0
4位	<u>ドイツ</u> ②	82.5	14位	クロアチア	80.4
5位	ベルギー	82.2	15位	<u>ポーランド</u> ⑥	80.2
6位	オーストリア	82.1	16位	<u>スイス</u> ⑦	80.1
7位	<u>ノルウェー</u> ③	82.0	17位	<u>イギリス</u> ⑧	80.0
8位	<u>フランス</u> ④	81.7	18位	<u>日本</u> ⑨	79.8
9位	スロベニア	81.6	19位	スロバキア	79.6
10位	エストニア	81.6	20位	<u>スペイン</u> ⑩	79.5

※同スコア(81.6)における順位は、資料通りに表記しています。

先生:「この表1は、2021年6月に発表された Sustainable Development Report 2021に掲載されていた世界各國のSDGsランキング(トップ20)をまとめたものです。」

生徒:「1位から3位までは北ヨーロッパの国になっていますね。」

先生:「そうですね。北ヨーロッパの国々は環境大国とも言われていてSDGsにも力を入れていることが分かります。」
⑪

生徒:「4位以降もヨーロッパの国々が続いてきますが、18位によく日本ができました。日本は、ヨーロッパと比べると達成度は低いようですね。」

先生:「日本は、SDGsの17のゴールの中でジェンダーや自然環境に関する5つのゴールで厳しい評価を受けたようです。」
⑫

生徒:「アメリカやBRICsの国々はどれぐらいのランキングだったのですか?」
⑬

先生:「このレポートによると、アメリカは32位、ロシアが46位、中国が57位、ブラジルが61位、インドが120位でした。」
⑭ ⑮ ⑯

生徒:「アフリカ州・アジア州・南アメリカ州の国々はまだまだ発展途上国が多いのでランキングにあまり出てきていませんね。日本のように先進国から率先してSDGsの取り組みをすすめていくことが大切なのかもしれませんね。」
⑰ ⑱ ⑲

問1 下線部①について、スウェーデンに接している海として最も適当なものを、次の(ア)～(エ)のうちから1つ選び、記号で答えなさい。

(ア) 黒海 (イ) 地中海 (ウ) 北極海 (エ) バルト海

問2 下線部②について、ドイツには多くの外国人労働者が訪れています。ドイツに最も多く外国人労働者を送っているアジア州の国を答えなさい。

問3 下線部③について、ノルウェーに分布していない気候区分として最も適当なものを、次の(ア)～(エ)のうちから1つ選び、記号で答えなさい。

(ア) 亜寒帯湿潤気候 (イ) 西岸海洋性気候
(ウ) ツンドラ気候 (エ) 氷雪気候

問4 下線部④について、次の図1中のA・B山脈とC・D国について説明した文として適当でないものを、下の(ア)～(エ)のうちから1つ選び、記号で答えなさい。



図1

(ア) A山脈はフランスとスペインの国境付近に分布しており、造山帯に属している。
(イ) B山脈はフランスとスイス・イタリアの国境付近に分布しており、造山帯に属している。
(ウ) C国はフランスと国境を接しているが、宗教はフランスとは類似していない。
(エ) D国はフランスと国境を接しているが、言語はフランスとは類似していない。

問5 下線部⑤について、オランダと同緯度に位置している国として適当でないものを、次の(ア)～(エ)のうちから1つ選び、記号で答えなさい。

- (ア) 日本 (イ) イギリス (ウ) カナダ (エ) ロシア

問6 下線部⑥について、ポーランドの首都名を答えなさい。

問7 下線部⑦について、スイスのベルン州グリンデルワルトと長野県松本市は姉妹都市になっています。次の図2は、松本駅周辺の地図に地図記号などの土地利用を示したものです。図2中に描かれている土地利用について説明した下の(ア)～(エ)のうちから誤っているものを1つ選び、記号で答えなさい。



図2
(国土地理院「地理院地図 Globe」より)

- (ア) JR松本駅の西側から鉄道が運行されており、渚駅前には神社と郵便局がみられる。
(イ) JR松本駅の南東側には「薄川」があり、東から西に向かって流れている。
(ウ) JR北松本駅の北西にある「白板(二)」の付近には神社や博物館がみられる。
(エ) JR北松本駅から東に進むと松本城公園があり、その北側には裁判所がみられる。

問8 下線部⑧について、イギリスが第一次世界大戦前に植民地支配していたアフリカの国として誤っているものを、次の(ア)～(エ)のうちから1つ選び、記号で答えなさい。

- (ア) エジプト (イ) ガーナ (ウ) タンザニア (エ) ボツワナ

問9 下線部⑨について、次の表2は、たまねぎ、ばれいしょ(じゃがいも)、茶、にわとり(肉用若鶏)の生産割合の上位4都道府県を示したものです。表2中の(i)～(iv)には、鹿児島県、長崎県、北海道、宮崎県のいずれかが該当します。表2中の(ii)に該当する都道府県を答えなさい。

表2

	たまねぎ	ばれいしょ	茶	にわとり
1位	(i) 62.1	(i) 77.0	(ii) 38.4	(ii) 20.1
2位	佐賀県 10.2	(ii) 4.3	静岡県 36.2	(iii) 19.6
3位	兵庫県 8.3	(iv) 4.1	三重県 8.0	岩手県 16.0
4位	(iv) 2.5	茨城県 2.0	(iii) 4.6	青森県 6.0
	その他 16.9	その他 12.6	その他 12.8	その他 38.3

(『データブック オブ・ザ・ワールド2021』より)

問10 下線部⑩について、イベリア半島最南端のタリファ岬からアフリカ大陸のモロッコの間にあり、ヨーロッパとアフリカ大陸を隔てている海峡を答えなさい。

問11 下線部⑪について、SDGsとは「Sustainable Development Goals」の略称で2015年に国連総会にて採択された国際目標です。このSDGsは日本では「〇〇〇〇な開発目標」とも呼ばれています。「〇〇〇〇」に当てはまる漢字4字を答えなさい。

問12 下線部⑫について、日本の自然災害には周辺のプレートの動きが大きく影響しています。日本列島の本州の中央部には東北日本と西南日本に分断する大きな溝があります。この大きな溝をカタカナ7字で答えなさい。

問13 下線部⑬について、アメリカでは気候の違いから農牧業も大きく異なっています。次の図3中の4つの地点で見られる農牧業について説明した文として適当でないものを、下の（ア）～（エ）のうちから1つ選び、記号で答えなさい。

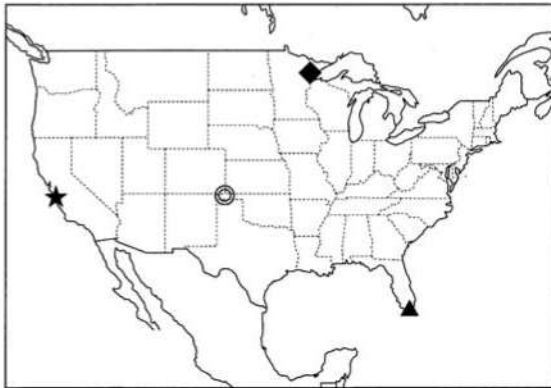


図3

- （ア） ◆地点は、冷涼な環境にあり、牛乳やチーズなどの酪農がさかに行われている。
- （イ） ★地点は、温暖な環境にあり、ぶどうやオレンジなどの栽培が行われている。
- （ウ） ◎地点は、少し乾燥した環境にあり、小麦やてんさいの栽培が行われている。
- （エ） ▲地点は、高温な環境にあり、サトウキビなどの商品作物の栽培が行われている。

問14 下線部⑭について、ロシアの東経60度付近にあり、アジア州とヨーロッパ州の境界に位置する山脈を答えなさい。

問15 下線部⑮について、北京首都国際空港を1月1日午後1時30分に出発する飛行機が11時間10分かけてフランスのシャルル・ド・ゴール国際空港に到着します。シャルル・ド・ゴール国際空港に到着する日時を解答欄にあう形で答えなさい。なお、「午前」もしくは「午後」もつけて答えること。ただし、北京は東経120度、パリは東経15度の標準時子午線を基準にしています。

問16 下線部⑯について、ブラジルの都市が抱える環境問題について説明した文章中の空欄に当てはまる語句を答えなさい。

ブラジルの都市部では、人口が急激に増えすぎたために、インフラ整備が追いつかず、（ ）と呼ばれる居住地区で貧しい人々が密集して住むようになった。
しかし、2016年にリオデジャネイロでオリンピックが開催されたこともあって、道路の整備や公共施設の再開発などが行われ、生活環境の改善が進んだ。

問17 下線部⑰について、インドについて説明した文章中の空欄に当てはまる語句を答えなさい。

インドでは「緑の革命」と呼ばれる取り組みが導入され、改良された品種を使って稲や麦の収穫量を増やしてきた結果、自給率は高まり人口は増え続けている。
他にもインドでは商品として販売するためにデカン高原では綿花が、インド北東部の山間部では（ ）がさかんに栽培されている。

問18 下線部⑮について、次の(i)～(iii)はアフリカ州にあるエチオピア、ケニア、マダガスカルの特徴を説明した文です。説明文と国名の組み合わせとして最も適当なものを、下の(ア)～(カ)のうちから1つ選び、記号で答えなさい。

- (i) 過去にイギリスの植民地支配を受けたことがあり、国土の大部分は標高1,100～1,800 mの高地である。比較的工業化が進んでいるが、コーヒーや茶、切り花など園芸作物の生産を中心とする農業国である。
- (ii) 過去にフランスの植民地支配を受けたことがあり、昔は Gondwana 大陸の一部であったが1億5千万年前の大陸移動で切り離された。パオバブの木やカメレオン、キツネザルなど特徴的な動植物が生息している。
- (iii) 第二次世界大戦まで独立を保ってきた国で、国土の大部分は高地に位置している。近年では経済成長が続いているが一人当たりの GNI は最貧国の水準にとどまり慢性的に食料不足である。コーヒー豆の生産地としても知られている。

- (ア) i = エチオピア ii = ケニア iii = マダガスカル
- (イ) i = エチオピア ii = マダガスカル iii = ケニア
- (ウ) i = ケニア ii = エチオピア iii = マダガスカル
- (エ) i = ケニア ii = マダガスカル iii = エチオピア
- (オ) i = マダガスカル ii = エチオピア iii = ケニア
- (カ) i = マダガスカル ii = ケニア iii = エチオピア

問19 下線部⑯について、次の図4中のA～Cは北緯30度付近に位置するアジア州の国々です。下の表3の(i)～(iii)は、図4中のA～Cの国々の主要な統計データを示したものです。A～Cと(i)～(iii)の組み合わせとして適当なものを、下の(ア)～(カ)のうちから1つ選び、記号で答えなさい。

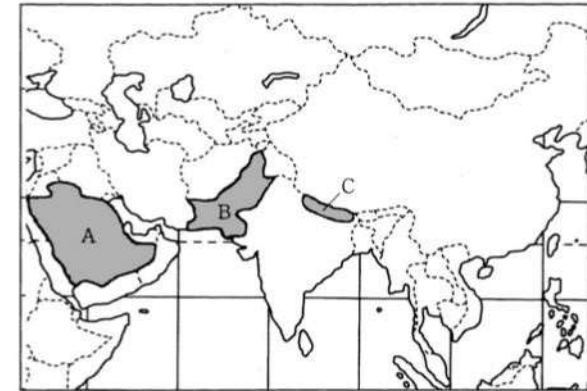


図4

表3

	人口	宗教	主要産業	GDP 成長率
(i)	約2億2000万人	イスラム教	農業、繊維業など	6.0%
(ii)	約3400万人	イスラム教	石油、LPG など	-4.1%
(iii)	約2900万人	ヒンドゥー教	農林業、貿易・卸売業など	4.0%

(外務省 HP より作成)

- (ア) i = A ii = B iii = C (イ) i = A ii = C iii = B
- (ウ) i = B ii = A iii = C (エ) i = B ii = C iii = A
- (オ) i = C ii = A iii = B (カ) i = C ii = B iii = A

問20 下線部②について、南アメリカ州には多くの日系移民の子孫が暮らしています。次の図5は南アメリカで暮らす日系人の割合を示したものです。図5中のA国に該当する国として最も適切なものを、下の(ア)～(エ)のうちから1つ選び、記号で答えなさい。

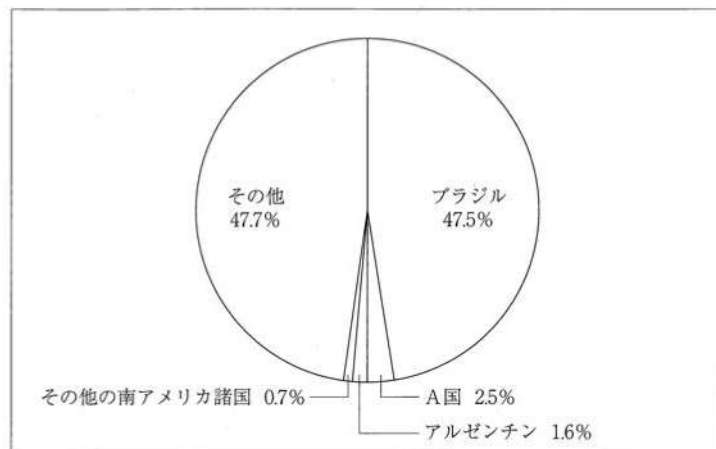


図5

(公益財団法人 海外日系人協会 HP より作成)

- (ア) エクアドル (イ) チリ (ウ) ベルー (エ) ボリビア

【1】

問 1	問 2	問 3	問 4	問 5	問 6	問 7
問 8	問 9	問10	問11	問12		
問13	問14	問15	問16			
			(制度)			
問17	問18	問19	問20			
	(制度)					


【2】

問 1	問 2	問 3	問 4	問 5	問 6
問 7	問 8	問 9	問10	問11	問12
問13	問14	問15	問16	問17	問18
問19	問20	問21(A)	問21(B)		
問21(C)	問21(D)	問21(E)	問21(F)		

【3】

問 1	問 2	問 3	問 4	問 5	問 6
問 7	問 8	問 9	問10	問11	
問12	問13	問14	問15		
			()月()日()時()分		
問16	問17	問18	問19	問20	

↓ここにシールを貼ってください↓



2302200