

2024年度

社 会  
( A 1 日程 )

(解答はすべて解答用紙に記入しなさい)

1 次の文章を読んで、以下の問いに答えなさい。

2023年8月、お盆前から①お盆にかけて発生した台風6号と台風7号は、②九州地方及び近畿地方を中心とする西日本に大きな影響をもたらしました。③先島諸島や沖縄本島では最大瞬間風速が50メートルを超える暴風が吹き荒れて各地で停電が発生し、④空の便を中心とする交通網にも大きな影響が出ました。一方、鳥取県や岡山県の一部地域では24時間の降水量が観測史上1位の値を超え、⑤河川が氾濫して複数の浸水被害が報告されました。

近年、台風による被害が大きくなっていますが、その理由を考えたことはありますか。世界全土で⑥気候変動が観測されていますが、この原因となるのが温室効果ガスの増加による地球温暖化であり、台風大型化の原因もここに 있습니다。では、なぜ温暖化によって台風が大型化するのでしょうか。台風は海面水温が26.5℃の暖かい海で発生し、海面水温が高いほど大型化するとされています。水温が高いと、大気中に含まれる水蒸気の量は多くなり、これが台風のエネルギー源となるためです。⑦気象庁の観測データによると、⑧日本近海の海面水温は年々高くなっており、猛烈な台風が上陸する可能性が高くなることが予想されています。今後も巨大台風が続けば、河川や交通網だけでなく、⑨野菜や果物の栽培、⑩稲作にも深刻な影響が現れて、私たちの食卓にも影響が及んでいきます。

このような台風大型化を食い止めるためには、地球温暖化の防止が必要不可欠です。今のまま温暖化が進むと、2100年には、日本全国で最高気温が40℃を超える予想も出ており、南極の氷が溶けて海面が上昇し、観光地で有名なイタリアのベネチアも沈んでしまう恐れがあると言われています。また、熱波や森林火災、海面上昇による砂浜の減少により生態系にも大きな影響が出て、多くの生物が絶滅する可能性もあります。

温室効果ガスの中で最も大きな割合を占めているのは二酸化炭素ですが、日本では、排出される二酸化炭素のうち約4割が、火力発電所で電気を作る過程で生まれており、他にも自動車の排気ガスや⑪工場からも多くの二酸化炭素が出されています。そこで⑫日本政府は再生可能エネルギーの発電割合を増やす方策を進めており、電気自動車やエネルギーに配慮した住宅の普及も推進しています。また、⑬地方自治体も独自の政策を始めており、山梨県では⑭フランスの取り組みを参考に、伐採後の枝を燃やさず灰にして土に埋め、大気中に放出される二酸化炭素を減少させる取り組みを行っています。私たち個人でも、エアコンの設定温度を適切に保つ、人が使っていない部屋の電気をこまめに消す、洗濯物はまとめて洗うなど、日常の何気ない行動の中で温暖化防止に協力することは出来ます。地球の未来のため、出来ることから始めて行きましょう。

問1 下線部①について、お盆前からお盆の時期にかけて日本各地で伝統行事が行われます。伝統行事の名称とその行事が行われている地域の組み合わせとして正しいものを、次のア～カの中から一つ選び、記号で答えなさい。

- |   |           |          |          |          |
|---|-----------|----------|----------|----------|
| ア | 五山送り火（京都） | ねぶた祭（青森） | 花笠祭り（山形） | 阿波踊り（徳島） |
| イ | 五山送り火（京都） | ねぶた祭（青森） | 花笠祭り（徳島） | 阿波踊り（山形） |
| ウ | 五山送り火（徳島） | ねぶた祭（青森） | 花笠祭り（京都） | 阿波踊り（山形） |
| エ | 五山送り火（徳島） | ねぶた祭（青森） | 花笠祭り（山形） | 阿波踊り（京都） |
| オ | 五山送り火（京都） | ねぶた祭（徳島） | 花笠祭り（山形） | 阿波踊り（青森） |
| カ | 五山送り火（山形） | ねぶた祭（徳島） | 花笠祭り（京都） | 阿波踊り（青森） |

問2 下線部②について、九州地方の説明に関して誤っているものを、次のア～エの中から一つ選び、記号で答えなさい。

- ア 宮崎県では、宮崎平野を中心に野菜の促成栽培が盛んに行われている。
- イ 長崎県の大村湾では真珠の養殖が盛んで、全国有数の生産量を誇っている。
- ウ 大分県の多くにはシラス台地が広がっており、豚の飼育やサツマイモの栽培が盛んに行われている。
- エ 佐賀県は陶磁器の生産が盛んで、伊万里焼や有田焼は全国的に有名である。

問3 下線部③について、先島諸島には日本最西端の島である与那国島が存在します。では、日本最東端の島の名称を答えなさい。

問4 下線部④について、北海道には複数の空港が存在します。函館空港の位置を次の図中ア～エの中から一つ選び、記号で答えなさい。



問5 下線部⑤について、川が山地から平野に流れ出たところに砂や石が積もって作られた地形の名称と、その地形の中央部で主に栽培される農作物を表す地図記号との組み合わせとして正しいものを、次のア～エの中から一つ選び、記号で答えなさい。

- |   |     |   |  |   |     |   |  |
|---|-----|---|--|---|-----|---|--|
| ア | 三角州 | - |  | イ | 三角州 | - |  |
| ウ | 扇状地 | - |  | エ | 扇状地 | - |  |

問6 下線部⑥について、次の表A～Cは、金沢、高松、高知のいずれかの気温と降水量を表しています。表中A～Cについて述べた文として正しいものを、下のア～カの中から二つ選び、記号で答えなさい。(上段は月平均気温℃、下段は月降水量mm)

	1月	2月	3月	4月	5月	6月	7月	8月	9月	10月	11月	12月	全年
A	5.5	5.9	8.9	14.4	19.1	23.0	27.0	28.1	24.3	18.4	12.8	7.9	16.3
	38.2	47.7	82.5	76.4	107.7	150.6	144.1	85.8	147.6	104.2	60.3	37.3	1082.3
B	6.3	7.5	10.8	15.6	19.7	22.9	26.7	27.5	24.7	19.3	13.8	8.5	17.0
	58.6	106.3	190.0	244.3	292.0	346.4	328.3	282.5	350.0	165.7	125.1	58.4	2547.5
C	3.8	3.9	6.9	12.5	17.1	21.2	25.3	27.0	22.7	16.6	11.0	5.9	14.5
	269.6	171.9	159.2	136.9	155.2	185.1	231.9	139.2	202.3	144.9	205.3	272.9	2237.6

(『データブック オブ・ザ・ワールド2022』より)

- ア Aは、梅雨の降水量が他の時期に比べて突出して多いことから、高知である。
- イ Bは、AやCと比較すると夏と冬の気温差が大きく、年間降水量も最も多いことから、高松である。
- ウ Cは、冬の降水量がAやBに比べて多いことから、日本海側気候の金沢である。
- エ Aは、一年を通して温暖な気候であることと年間の降水量が少ないことから、高松である。
- オ Bは、夏の気温が高く、夏の降水量はAの2倍以上もある豪雨地帯であることから、金沢である。
- カ Cは、年間を通じて毎月100mm以上の降水量があることから、亜熱帯気候の高知である。

問7 下線部⑦について、気象庁は国土交通省の外局として活動しています。国土交通省の仕事に関する次の文章の[ ]に最も適する語句を、下のア～エの中から一つ選び、記号で答えなさい。

近年増加傾向にある豪雨により、各地で大規模な災害が多発しています。各自治体は自然災害による被害の軽減や防災対策に使用する目的で、被災想定区域や避難場所・避難経路などの防災関係施設の位置などを表示した[ ]マップを作成していますが、国土交通省はその作成に必要なデータを積極的に提供しています。

- ア マインド      イ ハザード      ウ エコ      エ ウェザー

問8 下線部⑧について、日本近海の漁業に関する次の文章を読み、[ A ]と[ B ]に入る語句の組み合わせとして正しいものを、下のア～エの中から一つ選び、記号で答えなさい。

水深200メートルくらいまでの浅い海底を[ A ]と呼び、日光が海底まで届くため海藻やプランクトンが育ちやすく魚介類のすみかとして良い環境となっています。特に九州西部の[ B ]には[ A ]が広がっており、トロール漁業が盛んに行われています。

- ア A-潮目      B-東シナ海      イ A-潮目      B-三陸沖
- ウ A-大陸棚      B-東シナ海      エ A-大陸棚      B-三陸沖

問9 下線部⑨について、次の表は、ある果物の都道府県別の生産順位を表しています。ものの生産順位を表しているものを表中のア～エの中から一つ選び、記号で答えなさい。

	ア	イ	ウ	エ
1位	和歌山	山梨	青森	茨城
2位	愛媛	福島	長野	熊本
3位	静岡	長野	岩手	北海道

(『データブック オブ・ザ・ワールド 2022』より)

問10 下線部⑩について、野菜や果物が最も美味しい時期を旬と言います。1月から2月頃にかけて旬を迎える野菜として誤っているものを、次のア～エの中から一つ選び、記号で答えなさい。

- ア ハクサイ      イ ダイコン      ウ ホウレンソウ      エ トマト

問11 下線部⑪について、次の表は米作りのさかんな都道府県と平野およびその平野を流れる川の名称を表しています。表中[ ① ]、[ ② ]に入る都道府県をそれぞれ一つずつ答えなさい。

都道府県	平野	流れる川
福岡県・佐賀県	筑紫平野	筑後川
[ ① ]	石狩平野	石狩川
[ ② ]	仙台平野	北上川・阿武隈川
秋田県	秋田平野	雄物川



問12 下線部⑪について、多くの工場が集まっている地域は工業地帯とよばれます。阪神工業地帯の説明として正しいものを、次のア～エの中から一つ選び、記号で答えなさい。

- ア 出荷額が日本最大の工業地帯で、自動車を中心とした機械工業の割合が60%を超えている。  
 イ 日本一の人口を抱える地域に発達した工業地帯で、出版社や新聞社も多くあるため、印刷業が盛んである。  
 ウ 戦前までは出荷額が日本最大で、金属工業の割合が高い。また、中小企業が多いという特徴を持っている。  
 エ かつては四大工業地帯の一つとされていたが、現在はこの工業地帯を外して三大工業地帯と呼ぶようになった。

問13 下線部⑫について、日本は多くの原料を他国から輸入して製品を作っています。次の表は2020年における日本の鉄鉱石の輸入先を、割合の高い国から順に表しています。表中の [ ] に当てはまる国として正しいものを、下のア～エの中から一つ選び、記号で答えなさい。

国名	割合
[ ]	57.9%
ブラジル	26.9%
カナダ	6.0%
南アフリカ	3.1%
インド	1.9%
その他	2.1%

(『アータブック オブ・ザ・ワールド2022』より)

- ア アメリカ合衆国      イ オーストラリア      ウ 中華人民共和国      エ ロシア

問14 下線部⑬について、国会には4つの種類があり、それぞれの国会が大切な役割を持っています。次の各国会を説明した文 [1] ～ [3] に入る語句の組み合わせとして正しいものを、下のア～カから一つ選び、記号で答えなさい。

- [1]：内閣が必要と認めたとき、または、衆議院・参議院のどちらかの議院の総議員の4分の1以上が必要であると要求すれば開くことが出来る。  
 [2]：毎年1回、1月中に開かれる。会期は150日で、次の年度の予算を決めることが主な仕事となる。  
 [3]：衆議院議員総選挙から30日以内に開くことになっている。

- ア [1] 通常国会      [2] 臨時国会      [3] 特別国会  
 イ [1] 通常国会      [2] 特別国会      [3] 臨時国会  
 ウ [1] 特別国会      [2] 臨時国会      [3] 通常国会  
 エ [1] 特別国会      [2] 通常国会      [3] 臨時国会  
 オ [1] 臨時国会      [2] 通常国会      [3] 特別国会  
 カ [1] 臨時国会      [2] 特別国会      [3] 通常国会

問15 下線部⑭について、国会議員は選挙によって選ばれています。日本の選挙制度の説明として誤っているものを、次のア～エの中から一つ選び、記号で答えなさい。

- ア 選挙の手続きは公職選挙法によって定められている。  
 イ 国民は、内閣総理大臣を直接選ぶことは出来ない。  
 ウ 衆議院議員選挙には20歳になれば立候補することが出来る。  
 エ 衆議院議員の定数の半分以上は、小選挙区制において選出される。

問16 下線部⑮について、有権者が、地方自治体の首長や議員の解職を請求できる制度を何といいますか。カタカナ4文字で答えなさい。

問17 下線部⑯について、税金には、国に納める国税と、地方公共団体に納める地方税があります。

次のア～エの中から、地方税に当てはまるものを一つ選び、記号で答えなさい。

- ア 固定資産税      イ 法人税      ウ 所得税      エ 相続税

問18 下線部⑰について、フランスの首都を答えなさい。

2 次の文章は、日本の歴史に登場した動物たちについて書かれています。以下の問いに答えなさい。

資料1は、弥生時代に作られた青銅器の1つである銅鐸に描かれた人と動物です。そこから読み取れるのは縄文時代に使用され始めた(1)が狩りに使われていることです。捕まえられているのは鹿と思われるが、今は、奈良県奈良市で見かける多くの鹿が身近な存在として親しまれています。

資料2は、平安時代に描かれた絵巻物である『鳥獣戯画』です。この作品は承久の乱を起こす(2)上皇から、明恵というお坊さんが土地をもらい、そこに建てた高山寺に伝えられています。カエルとウサギが相撲をとってカエルが勝った場面です。古墳時代にもすでに相撲の力士と考えられる(3)埴輪が作られています。

資料3は、足利義満が京都に建てた(3)のもっとも高い場所につけられた鳳凰です。鳳凰は中国の神話に登場する、良いことがあるときに現れる鳥といわれています。現在の1万円札に描かれている鳳凰は、藤原頼通によって建てられた平等院鳳凰堂の屋根の上に置かれているものです。

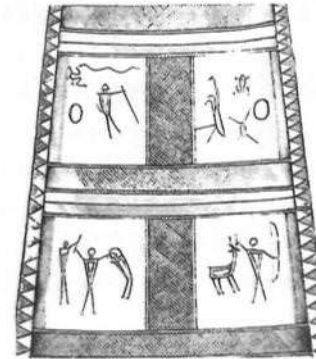
資料4は『洛中洛外図屏風』という当時の都である京都に住む人々を描いたものです。とくにこの絵は(4)が上杉謙信に贈ったといわれるものです。(4)はその8年後に本能寺の変で倒されます。猿にひもをつけて歩かせている男の人がみえます。猿に芸を教える猿回しのことは、鎌倉時代の歴史書『吾妻鏡』のなかにも書かれています。

資料5は鷹を使って狩りを行うことが趣味であった、江戸幕府初代将軍(5)の像です。鷹が日本に持ち込まれたのは(6)天皇の時代といわれています。この天皇のお墓は、堺市にある日本最大の古墳といわれています。(5)は実際の戦いに備えて鷹狩りで訓練をしていたと考えられます。江戸幕府の5代将軍徳川綱吉のときに鷹狩りは、一度禁止されました。しかし、享保の改革を行う8代将軍徳川吉宗の時代に復活しました。

資料6は幕末の(7)1863年に日本にやってきた(8)インド象を描いたものです。(9)横浜港から上陸したといわれています。横浜には、日本を開国させたアメリカの(7)が1854年に上陸してしばらく滞在しました。この象は江戸の両国広小路で見せ物となりました。

資料7は(10)1910年に菱田春草によって描かれた『黒き猫』です。春草は(11)1890年に東京美術学校に入学します。この学校の校長先生は(12)岡倉天心で、日本美術の復興に力を尽くした人です。ニューヨークの出版社から、日本の伝統文化である(13)お茶を紹介する『茶の本』を出版したことで有名です。


資料1



資料2



資料3



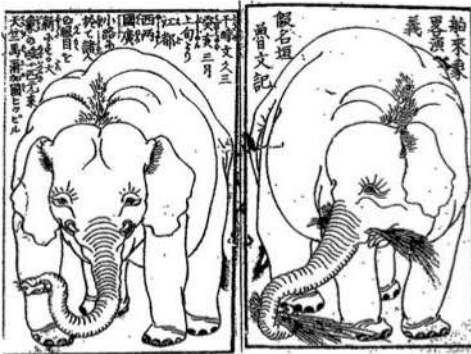
資料4



資料5



資料6



資料7



問1 下線部Aについて、弥生時代から始まったと考えられることとして適切でないものを次のア～

エのなかから1つ選び、記号で答えなさい。

ア 集落ごとの戦い

イ 中国への使者の派遣<sup>はけん</sup>

ウ 土器づくり

エ 鉄器の使用



問2 下線部(イ)について、写真の場所の住所が奈良市内ではないものを次のア～エのなかから1つ選び、記号で答えなさい。

ア



イ



ウ



エ



問3 下線部(ウ)について、この時代の内容として適切でないものを次のア～エのなかから1つ選び、記号で答えなさい。

ア 紫式部が『源氏物語』を書いた。

イ 大化の改新が始まった。

ウ 遣唐使が廃止された。

エ 平将門が反乱を起こした。

問4 下線部(エ)について、古墳時代の埴輪でないものを次のア～エのなかから1つ選び、記号で答えなさい。

ア



イ



ウ



エ



問5 下線部(カ)について、室町幕府3代将軍足利義満の時代は、幕府が最も力をもった時代といえます。8代将軍足利義政の時代には京都の多くの地域が燃えてしまった大きな戦いが始まりました。この戦いの名前は年号からつけられていますが、その年号として適切なものを次のア～エのなかから1つ選び、記号で答えなさい。

ア 応仁

イ 応永

ウ 建武

エ 文永

問6 下線部(カ)について、初めて中国を統一したといわれる王朝として適切なものを次のア～エのなかから1つ選び、記号で答えなさい。

ア 漢

イ 元

ウ 秦

エ 隋

問7 下線部(キ)について、藤原氏が最も力を持っていたといわれる時代が藤原頼通とその父親の時代です。頼通の父親の名前として適切なものを次のア～エのなかから1つ選び、記号で答えなさい。

ア 藤原鎌足

イ 藤原道長

ウ 藤原仲麻呂

エ 藤原清衡

問8 下線部(ク)について、この時代の内容として適切でないものを次のア～エのなかから1つ選び、記号で答えなさい。

- |                    |                |
|--------------------|----------------|
| ア 平清盛が宋との貿易を開始した。  | イ 永仁の徳政令が出された。 |
| ウ 北条氏が執権として政治を行った。 | エ 親鸞が浄土真宗を広めた。 |

問9 下線部(ク)について、禁止された理由は何ですか。説明しなさい。

問10 下線部(ク)について、1863年にアメリカ合衆国で奴隷解放宣言が発せられました。この宣言を発した大統領の名前として適切なものを次のア～エのなかから1つ選び、記号で答えなさい。

- |          |                |
|----------|----------------|
| ア ワシントン  | イ リンカン (リンカーン) |
| ウ マッカーサー | エ ケネディ         |

問11 下線部(ク)について、インドはイギリスの植民地となり、政治的にも経済的にもきびしい立場に置かれます。そのようななか、非暴力・不服従をとねえ、独立運動のリーダーとなった人物の名前として適切なものを次のア～エのなかから1つ選び、記号で答えなさい。

- |        |         |         |           |
|--------|---------|---------|-----------|
| ア マンデラ | イ キング牧師 | ウ ガンディー | エ マザー=テレサ |
|--------|---------|---------|-----------|

問12 下線部(ク)について、横浜は当初開港する予定ではなく、開港予定地は神奈川でした。神奈川は日本橋を出発して、東海道の3番目の宿場です。宿場は東海道の53あり、それぞれの様子を描いたのが歌川(安藤)広重の東海道五十三次です。では、次のⅠ～Ⅲの宿場を、江戸から京都に向かって旅をしている人が経過する順番に並べ替えたものとして、適切なものを次のア～カのなかから1つ選び、記号で答えなさい。


Ⅰ



Ⅱ







- |                |                |                |
|----------------|----------------|----------------|
| ア I → II → III | イ I → III → II | ウ II → I → III |
| エ II → III → I | オ III → I → II | カ III → II → I |

問13 下線部(イ)について、この年に韓国併合が行われ、朝鮮半島は日本の領土となりました。日本と朝鮮半島のかかわりについて述べた文として適切でないものを次のア～エのなかから1つ選び、記号で答えなさい。

- ア 日本に朝鮮半島から仏教が伝えられた。  
 イ 天下を統一した豊臣秀吉が朝鮮半島に2度攻め込んだ。  
 ウ 江戸時代を通じて朝鮮王室から一度も使者は来なかった。  
 エ 朝鮮半島で発生した民衆反乱をきっかけに、日清戦争が始まった。

問14 下線部(イ)について、この年に日本最初の議会が開催されました。しかし、このときはまだ仮の議事堂で、現在の国会議事堂が完成するのは、陸軍の青年将校が反乱を起こした1936年のことです。では、1936年を含む、満州事変からポツダム宣言を受け入れて戦争が終わるまでの期間の内容として適切でないものを次のア～エのなかから1つ選び、記号で答えなさい。

- |                |                   |
|----------------|-------------------|
| ア 国際連盟を脱退した。   | イ ハワイにある真珠湾を攻撃した。 |
| ウ 国家総動員法を制定した。 | エ ヴェルサイユ条約に調印した。  |

問15 下線部(イ)について、岡倉天心は伝統的な日本美術(絵画や彫刻など)が価値のないものように扱われていた状況を悲しんで、その素晴らしさを伝えようと力を尽くしました。では、次の作品Ⅰ～Ⅲの作成が古い順番に並べ替えたものとして、適切なものを次のア～カのなかから1つ選び、記号で答えなさい。



- |                |                |                |
|----------------|----------------|----------------|
| ア I → II → III | イ I → III → II | ウ II → I → III |
| エ II → III → I | オ III → I → II | カ III → II → I |

問16 下線部(ア)について、お茶に関する資料Ⅰ～資料Ⅲの内容から、お茶が日本でどのように飲まれてきたのかについて述べた文として、適切でないものを次のア～エのなかから1つ選び、記号で答えなさい。


資料Ⅰ 平安時代の歴史書『日本後紀』の815年4月22日の内容

嵯峨天皇が琵琶湖の西岸に出かけた帰り道に、遣唐使であったお坊さんの永忠<sup>えいちゆう</sup>からお茶でもてなしをうけた。

資料Ⅱ 鎌倉時代の歴史書『吾妻鏡』の1214年2月4日の内容

将軍の体の調子が悪くなり、周辺が騒<sup>さわ</sup>ぎとなったが特に深刻ではなく、昨日お酒を飲んだのが原因のようだ。臨済宗のお坊さんである栄西<sup>えいせい</sup>がこれを知<sup>し</sup>りてお茶を運ばせて、将軍に飲んでもらった。

資料Ⅲ 千利休が作ったお茶室の待庵<sup>たいあん</sup>



ア お茶を飲む習慣は、遣唐使などが中国から日本に持ち込んだ。

イ お茶はただの水分補給ではなく、薬として飲まれていた時代がある。

ウ お茶は庶民<sup>しよみん</sup>の飲み物であり、身分の高い人に飲む習慣はなかった。

エ 千利休は、質素な環境<sup>かんきやう</sup>で静かにお茶を飲む形式を確立した。

問17 文章中の( 1 )～( 7 )に入る適切な語句を答えなさい。

1

問 1	問 2	問 3	問 4	問 5	問 6
					(       ) と (       )

問 7	問 8	問 9	問10	問11の〔①〕	問11の〔②〕

問12	問13	問14	問15	問16	問17

問18

2

問 1	問 2	問 3	問 4	問 5	問 6	問 7	問 8


問 9

問10	問11	問12	問13	問14	問15	問16

問17(1)	問17(2)	問17(3)	問17(4)

問17(5)	問17(6)	問17(7)

↓ここにシールを貼ってください↓



2411200