

2026年度

社 会

( A 1 日程 )

(解答はすべて解答用紙に記入しなさい)

1 次の文章を読み、下の問に答えなさい。

3月22日が『世界水の日』であることは知っていますか。現在の日本では、蛇口をひねればどこでも水が出てくるので、水はいくらでもあると思いがちですが、実際はそうではありません。ここからは、私たちが直面している水不足の状況を考えてみましょう。

2025年の①世界人口は約82億人ですが、そのうちの3～4人に1人が安全な水を飲むことができていないと言われています。地球上には14億 km<sup>3</sup>の水が存在しますが、そのほとんどは海水で、私たちが飲むことができるのは、②河川や③湖、地中の浅いところに存在する水のみで、それは地球上の水のたった0.01%しかありません。世界中の多くの河川で、④工業用水やゴミの流出で⑤水質が悪化し、飲み水として適さない状況が生まれています。また、水をめぐり紛争が起きている地域もあります。水をめぐり紛争とは、水の配分や所有権に関する争いで、乾期が厳しい中東地域の⑥イスラエルやヨルダン、レバノンといった国では、ヨルダン川の所有権や水の配分をめぐって争いがくり広げられてきました。こうした紛争が原因で、水不足に苦しむ人も世界には多くいるのです。⑦国連の報告によれば、2050年には全世界で水不足に直面する人々がいっそう増え、世界人口の40%が水不足で苦しむことになると予想されています。

日本はどうでしょうか。2025年の夏、⑧東北地方の日本海側と北陸で、7月としては記録的な少雨になりました。雨が降らず、福井県や新潟県の田んぼがカラカラに乾いてひび割れ、稲の先端が茶色になり⑨稲作に大きな影響が出ました。稲の大部分が枯れてしまったため、それ以上の生育をあきらめ、⑩家畜のエサにした米農家もあったようです。また宮城県の鳴子ダムや岩手県の御所ダムも水の貯水率が0%となり、農業用水が不足して周辺地域の⑪農作物にも被害が出ました。一方で、一時は日本の観測史上最高気温となった41.2度を記録した近畿地方の⑫丹波市では、市営プールの営業がわずか3日で終了するなど、水不足は日々の何気ない楽しみまでも暗い影を落としています。

では、水資源を守るために私たちは何をすれば良いのでしょうか。一番簡単な方法は、日常生活での水の使用を意識的に減らすことです。例えば、シャワーの時間を短くする、歯を磨くときに水を流しっぱなしにしない、食器洗いに使う水を減らす、などが挙げられます。また、雨水を貯めて庭の水やりに利用することなども有効です。次に、個人だけではなく、⑬地方自治体の取り組みも重要だと考えられます。学校や病院、役所などでの公共施設で、節水ができる設備を導入し、動水栓や感知式洗浄装置の導入を今以上に進めることも、無駄な水の使用を減少させることに役立ちます。ただし、このような取り組みのためには多くの費用が必要で、社会基盤の整備や新技術への投資が求められます。雨水収集システムやリサイクル水利用技術を今以上に発展させるためには、⑭政府が水資源に関する法整備を進め、投資を進めることが鍵となります。

個人が節水を意識することで、地域全体の水使用量を減少させることができ、地域全体での水資源

保護意識が高まれば、国や国際社会を動かすことも可能になります。持続可能な未来を目指すためには、まずは自分から行動を起こすことが重要です。皆さんも自分で出来ることを見つけ、小さなことから始めてみましょう。

問1 下線部①について、2025年8月時点において、人口が最も多い国の名前と、その国の説明文の組み合わせとして正しいものを、次のア～エの中から一つ選び、記号で答えなさい。

【国名】

あ：中国                      い：インド

【説明文】

X：世界第4位の面積を持つ国で、共産党が国家の運営を行う中で経済的にも発展し、国内総生産はアメリカ合衆国に次ぐ世界第2位となっている。

Y：多様な文化と宗教を持つ国だが、国民の8割近くはヒンドゥー教徒である。高い経済成長を誇っているが、古くからの身分制度が根強く残っており、しばしば国際問題として取り上げられる。

ア あ-X                      イ あ-Y                      ウ い-X                      エ い-Y

問2 下線部②について、日本には多くの川が流れていますが、球磨川、富士川、[A]は、日本三大急流と呼ばれています。[A]に入る河川名と、その川が流れる県の形の組み合わせとして正しいものを、次のア～エの中から一つ選び、記号で答えなさい。(図の縮尺は同一ではありません。)

【河川名】

あ：最上川                      い：利根川

【流れる県】



X



Y

ア あ-X                      イ あ-Y                      ウ い-X                      エ い-Y

問3 下線部③について、湖とその湖が位置する都道府県名の組み合わせとして正しいものを次のア～カの中から一つ選び、記号で答えなさい。

ア 琵琶湖-京都府                      イ サロマ湖-熊本県                      ウ 諏訪湖-大阪府  
 エ 田沢湖-香川県                      オ 浜名湖-静岡県                      カ 霞ヶ浦-兵庫県

問4 下線部④について、次の表は阪神工業地帯の工業出荷額のうちわけを、全国平均と比べたものです。表中（B）にあてはまる工業として正しいものを下のア～オの中から一つ選び、記号で答えなさい。

	(A)	(B)	(C)	(D)	(E)	その他
阪神工業地帯	21.1%	38.8%	22.2%	10.8%	1.1%	6.1%
全国平均	14.4%	44.5%	21.1%	12.0%	1.1%	6.9%

【データブック・オブ・ザ・ワールド 2025】

- ア 食料品工業                      イ せんい工業                      ウ 機械工業  
 エ 化学工業                        オ 金属工業

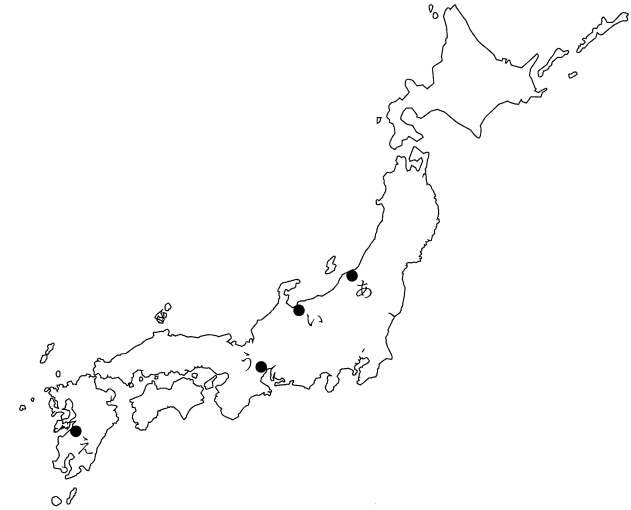
問5 下線部④について、阪神工業地帯の説明として正しいものを次のア～エの中から一つ選び、記号で答えなさい。

- ア 第2次世界大戦前は日本一の出荷額を誇っていたが、その後全国に占める出荷額の割合は低下してきた。中小企業や工場が多いことでも知られる。  
 イ 自動車を中心とした機械工業の割合が高く、合計出荷額は全国1位を誇る。  
 ウ 日本一の人口をかかえる地域に発達し、出荷額順位は以前より下がっている。出版社が多いため、印刷業が盛んなことでも知られる。  
 エ 八幡製鉄所の繁栄もあり、以前は四大工業地帯の一つとして数えられていたが、現在は鉄鋼の生産量も大幅に減少しており、機械工業への転換を図っている。

問6 下線部⑤について、水質汚染によって1910年代から1970年代にかけて[X]流域でタイタイイ病が起きました。[X]に入る河川名と、その川が流れる地域の位置の組み合わせとして正しいものを次のア～クの中から一つ選び、記号で答えなさい。

【河川名】

- ① 神通川                              ② 阿賀野川



- ア ①-あ                      イ ①-い                      ウ ①-う                      エ ①-え  
 オ ②-あ                      カ ②-い                      キ ②-う                      ク ②-え

問7 下線部⑥について、第2次世界大戦中はナチス=ドイツに迫害されるも1948年にイスラエル建国を果たし、現在ではイスラエル国民の70%以上を占める民族を答えなさい。

問8 下線部⑦について、国連の仕組みやはたらきについて説明した次のア～エの文章のうち、誤っているものを一つ選び、記号で答えなさい。

- ア 国連総会は全加盟国の代表によって構成されており、1国1票制がとられている。
- イ 国際連合は世界の平和と安全を守るために発足し、本部はニューヨークに置かれた。
- ウ 安全保障理事会は5カ国の常任理事国と10カ国の非常任理事国から構成されており、常任理事国は拒否権を持っている。
- エ 国連の専門機関であるユネスコは、発展途上国の児童に対する長期的な援助を行っている。

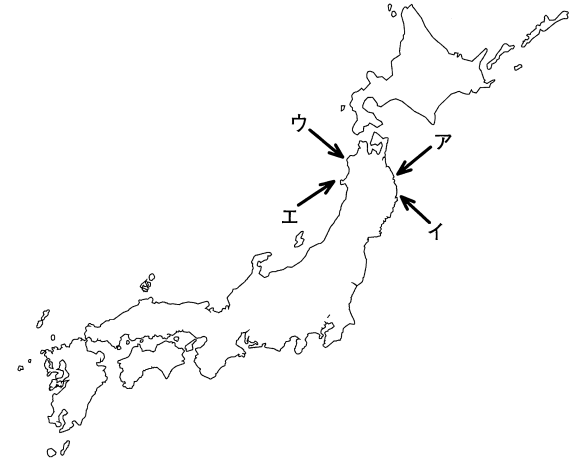
問9 下線部⑦について、国連の活動に関する次の文中 [あ]・[い] に入る語句の組み合わせとして正しいものを、次のア～エの中から一つ選び、記号で答えなさい。

国連は人権や国際平和を守るために様々な活動をしており、[あ]を採択して、全ての人権を尊重するための共通基準を定めました。さらに、紛争地域に国連平和維持軍を派遣し、停戦状態の監視などの [い] を行っています。

- ア あ-人種差別撤廃条約    い-PKO    イ あ-人種差別撤廃条約    い-ODA
- ウ あ-世界人権宣言    い-PKO    エ あ-世界人権宣言    い-ODA

問10 下線部⑧について、東北6県の中で、ひらがな表記で5文字の県はいくつあるか数字で答えなさい。  
(例：兵庫県→ひょうごけん→小さい「よ」も1字と数える→ひらがな表記で6文字)

問11 下線部⑧について、東北地方では冷たく湿ったやませによって冷害が起きることがあります。やませが吹く方向として正しいものを、下の図中ア～エの中から一つ選び、記号で答えなさい。



問12 下線部⑨について、「米」という字は「八十八」の組み合わせで、実るまでに88回も手をかけると昔から言われてきました。米作りの順番が正しく表されているものを、次のア～カの中から一つ選び、記号で答えなさい。

- ア 中ぼし→しろかき→田おこし→稲刈り    イ 中ぼし→田おこし→しろかき→稲刈り
- ウ しろかき→中ぼし→田おこし→稲刈り    エ しろかき→田おこし→中ぼし→稲刈り
- オ 田おこし→しろかき→中ぼし→稲刈り    カ 田おこし→中ぼし→しろかき→稲刈り

問13 下線部⑨について、日本政府は1971年から米の生産調整を始めました。生産調整とは実際にどうすることなのか、次のア～エの中から正しいものを一つ選び、記号で答えなさい。

- ア 米と麦の二毛作地にかえてしまうこと。
- イ 農地ではなく、住宅地にかえてしまうこと。
- ウ 米を作らず、ほかの作物を栽培すること。
- エ 米の品種改良を行い、二期作を行うこと。

問14 下線部⑩について、社会科の授業の中で、全国と北海道の家畜の飼育頭数及び出荷羽数についての表を見て4人の生徒が意見を述べています。正しい意見を述べている生徒は何人いますか。下のア～オの中から正しいものを一つ選び、記号で答えなさい。

北海道	肉用牛 飼育頭数 (千頭)	乳用牛 飼育頭数 (千頭)	豚 飼育頭数 (千頭)	プロイラー 出荷羽数 (万羽)
2008年	535	823	573	3116
2013年	517	779	631	3655
2023年	566	843	760	3821

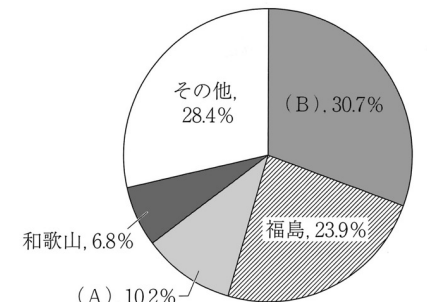
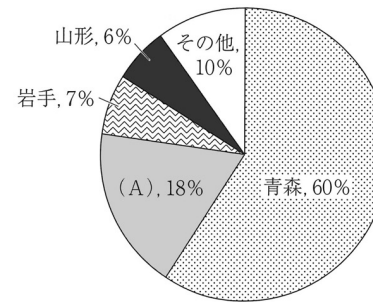
全国	肉用牛 飼育頭数 (千頭)	乳用牛 飼育頭数 (千頭)	豚 飼育頭数 (千頭)	プロイラー 出荷羽数 (万羽)
2008年	2923	1500	9899	63469
2013年	2499	1323	9346	67771
2023年	2687	1356	8956	72088

【データブック・オブ・ザ・ワールド 2010 2015 2025】

- Aさん：2008年から2023年にかけて、北海道のプロイラー出荷羽数と全国のプロイラー出荷羽数は減少することなく共に増え続けていることがわかります。
- Bさん：2008年時の、北海道の肉用牛飼育頭数は、全国の飼育頭数の20%に満たなかったのに対し、2023年には20%をこえています。
- Cさん：北海道の豚の飼育頭数は、表中の3カ年すべてで全国の飼育頭数の10%に満たないです。
- Dさん：2008年と2023年を比較すると、全国における乳用牛の飼育頭数は減少しているのに、北海道の乳用牛の飼育頭数は増えています。

ア 1人      イ 2人      ウ 3人      エ 4人      オ 正しい意見は1つもない

問15 下線部⑪について、次の2つのグラフはりんご・もものいずれかの都道府県別生産量の割合を示しています。表中(A)・(B)に当てはまる都道府県の組み合わせとして正しいものを次のア～カの中から一つ選び、記号で答えなさい。



【データブック・オブ・ザ・ワールド 2025より作成】

- ア (A) 長野      (B) 山梨      イ (A) 山梨      (B) 長野  
 ウ (A) 北海道      (B) 長野      エ (A) 長野      (B) 北海道  
 オ (A) 北海道      (B) 山梨      カ (A) 山梨      (B) 北海道

問16 下線部⑫について、工芸作物に関する次の文を読み、[      ] に適語を記入しなさい。

食品や工業の原料のために栽培・加工される作物のことを工芸作物といい、熊本県でのい草の生産量は日本一である。また、[      ] 県の牧ノ原台地では茶の栽培が盛んで、[      ] 県、三重県、鹿児島県は茶の三大生産地として知られている。

問17 下線部⑬について、黒大豆や丹波栗で有名な丹波市はどの府県にあるか、次のア～エの中から正しいものを一つ選び、記号で答えなさい。

- ア 大阪府      イ 滋賀県      ウ 奈良県      エ 兵庫県

問18 下線部⑬について、地方自治に関する次の文中 [あ]・[い] に入る語句の組み合わせとして正しいものを、次のア～エの中から一つ選び、記号で答えなさい。

地方自治は [あ] の学校と言われており、地方行政の運営を行う地方議会議員は住民の [い] 選挙によって選ばれる。

- ア あ－資本主義    い－直接                      イ あ－資本主義    い－間接  
ウ あ－民主主義    い－直接                      エ あ－民主主義    い－間接

問19 下線部⑭について、地方公共団体が行う仕事を助けるために、国が使いみちを指定して出している補助金を何とよいか答えなさい。

問20 下線部⑮について、国会の仕組みと働きについて誤っているものを次のア～エの中から一つ選び、記号で答えなさい。

- ア 参議院議員の任期は6年で、30歳以上で立候補ができる。  
イ 法律は国会だけが定めることができる。  
ウ 臨時国会は衆議院の解散総選挙後に開かれ、この国会において内閣総理大臣の任命が行われる。  
エ 内閣不信任決議は衆議院だけが行うことができる。

2 次の文章を読んで、以下の設問に答えなさい。

イギリスの植物学者、ロバート＝フォーチュンが来日したのは、幕末の長崎です。その後、横浜へ向かい、再来日したときは鎌倉を旅行します。かれは、この日本滞在中に見た光景にびっくりします。日本人は本当に花が好きで、花を上手に育てるための技術が、大名から町人、農民まで、広く共有されていたのです。では、日本列島に住む人々は花を見てどのようなことを感じ、どんな思いをたくしてきたのでしょうか。人と花のかかわりの歴史を4種類の花を選びまとめました。

① 梅

梅は、奈良時代以前に中国から日本に渡来したと考えられています。当初は、花よりも実を食用や薬用として利用することが主な目的でした。しかし、平安時代に入ると、貴族の間で梅の花が観賞の対象として注目されるようになり、梅見が盛んに行われるようになりました。梅は、宮廷文化の象徴となり、特に、学問の神様となった菅原道真が梅を愛し、天神様と梅の結びつきは、現代まで受け継がれています。平安時代以降、貴族の間で桜の人氣が高まり、次第に花見の主役は梅から桜へと移り変わっていきましたが、梅は歌や俳句、絵画などの芸術作品を通して楽しまれてきました。元禄時代に尾形光琳は『紅白梅図屏風』を描き、『( 1 ) 五十三次』を描いた歌川(安藤)広重も江戸の梅の名所をたくさん描いています。

② 桜

日本の国花であり、花見やひな祭りなどで私たちの生活になじみの深い桜が、日本人にとって身近な存在になったのは平安時代で、国風文化が流行したことをきっかけに、山の神がやどる桜をめぐる風潮が広まりました。『古今和歌集』にも77種の歌がよまれています。庶民がお花見を楽しむようになったのは江戸時代からです。当時は寺社の境内に咲く桜の観賞でした。享保の改革で有名な8代将軍( 2 )が、飛鳥山や隅田川の堤防などに数千本の桜を植えたことで、庶民がお花見を楽しめる場所はより増えました。アメリカ合衆国のワシントンD.C.のポトマック河畔の美しい桜も1912年に日米の平和と親善の象徴として日本から贈られたものです。

③ 椿

日本人と椿の歴史は古く、およそ5000年前の(4)縄文時代にさかのぼります。福井県の遺跡では、椿で作られた(5)赤い漆塗りの日用品が発見されています。椿の木はかたく均質で、重さとねばりがあり、強さのなかにもしなやかさを兼ね備えています。また、椿油は(6)遣唐使が不老不死の贈り物として唐の国に持っていったという記録も残っています。室町時代になり、造園や華道、茶道が盛んになると椿は観賞用の花木として迎え入れられるようになります。室町幕府3代将軍の(3)は椿をはじめ、名花をしきつめた「花の御所」と呼ばれる屋敷を造園し、椿をたいそうめでたといわれます。その後、茶道でも大切にされた椿は(7)豊臣秀吉や、現在の茶道の形式を確立した(4)などにも愛されました。

④ バラ

日本では『(5)常陸国風土記』や、『万葉集』に記されているのが最も古い記録です。紫式部の『(5)』や清少納言の『枕草子』にもバラがでてきます。鎌倉時代になると、最古のバラの絵といわれるものが『春日権現験記』に描かれています。(6)春日大社で起きた出来事を描く20巻の絵巻物です。江戸時代には「日本最古の洋バラ」といわれる絵が宮城県にある円通院に残されています。(7)伊達政宗の家臣が慶長遣欧使節を率いてヨーロッパに渡航した支倉常長が持ち帰ったといわれています。そのヨーロッパでは皇帝(6)ナポレオン1世の皇后がバラを育てることに夢中になりました。日本は江戸時代に鎖国をしていましたが、長崎(6)のオランダ商館医でドイツ人医師のケンペルや、医師であり植物学者でもあるシーボルトは、バラをはじめ、たくさんの日本の植物をヨーロッパに伝えました。明治時代には、(7)文明開化で西洋文明の流入と相まって西洋のバラが輸入されるようになりました。(8)明治23年にはバラの番付表が作られ、178種を超えるバラが収録されたそうです。昭和に入ると、いっそう海外からバラが輸入されるようになり、(7)宣言を受け入れた終戦から3年後の(9)1948年、第1回日本バラ展が開催されました。海外からの輸入が進む一方で、(8)県が日本に復帰した(10)1972年には日本のバラがアメリカバラ協会の選定賞を受賞しました。

問1 下線部(ア)について、幕末の長崎において、江戸幕府の倒幕を目指す活動を行うとともに、グラーバー商会と武器の取引を行い、仲の悪かった薩摩藩と長州藩の仲介も行ったのが亀山社中です。その亀山社中の中心人物で、土佐藩出身の人物として適切なものを次のア～エのなかから1つ選び、記号で答えなさい。

- ア 大久保利通      イ 西郷隆盛      ウ 坂本龍馬      エ 高杉晋作

問2 下線部(イ)について、この都市が発展するきっかけとなったのは開国です。右の図は日本人によって描かれたアメリカのペリーの肖像画です。このような描き方となった理由として適切なものを次のア～エのなかから1つ選び、記号で答えなさい。

- ア 描いた人が実際にペリーにあったことがないから  
イ ペリーのことを怖いと思う気持ちがあったから  
ウ できるだけ本物に似せて描こうと思ったから  
エ 鼻の長い天狗という伝説上の生き物を意識したから



問3 下線部(ウ)について、鎌倉時代の出来事として適切なものを次のア～エのなかから1つ選び、記号で答えなさい。

- ア 一遍が踊念仏を行い、一遍の人生は絵巻にまとめられた。  
イ 後醍醐天皇が鎌倉幕府に対し承久の乱を起こした。  
ウ モンゴル帝国のフビライ=ハンの軍隊が日本をおそった。  
エ 武家最初の法典である御成敗式目(貞永式目)が制定された。

問4 下線部(エ)について、下の図は、江戸時代に町人が活気のある商売を行っていた江戸日本橋の風景を描いたものです。おもに何を売り買いしているのでしょうか。適切なものを次のア～エのなかから1つ選び、記号で答えなさい。



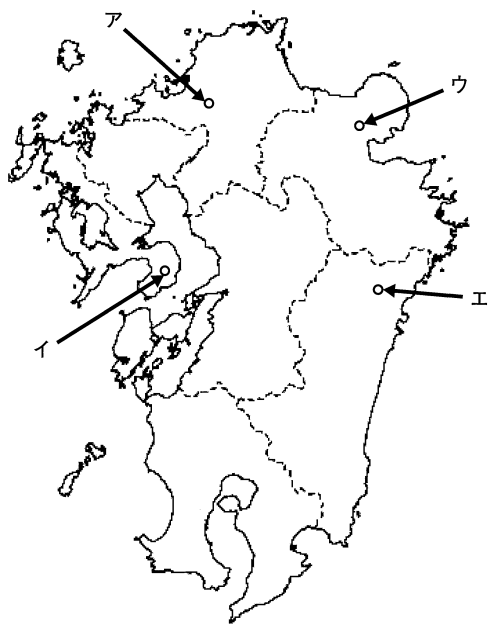
- ア 米                      イ 野菜                      ウ 魚                      エ 服

問5 下線部(オ)について、右の資料は文字が書かれた木の札の木簡で、奈良時代の遺跡からたくさん見つっています。右の木簡に書かれている内容は、表面は「阿波國□□方郡郡」で、裏面は「國國國國道道」と書かれています。□の部分は読み取れない文字です。では、右の資料も参考にして、木簡に関して適切なものを次のア～エのなかから1つ選び、記号で答えなさい。



- ア 木簡はその素材の特徴から、表面をけずれば何度でも使用できた。  
 イ 何度も同じ文字を書いているのは文字の練習をしたと考えられる。  
 ウ 阿波國とは現在の徳島県のこと、木簡は都以外でも使用されていた。  
 エ 海外から輸入された貴重な木材が木簡として使用されていた。



問6 下線部(カ)について、この人物は藤原氏によって九州に追放されました。その追放されて亡くなった場所として最も適切なものを次のア～エのなかから1つ選び、記号で答えなさい。



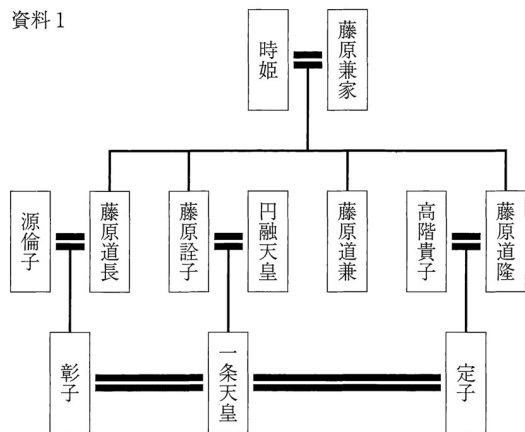
問7 下線部(キ)について、この作品として適切なものを次のア～エのなかから1つ選び、記号で答えなさい。




問8 下線部(ク)について、資料1は国風文化の中心的な担い手となった貴族藤原氏の家系図です。

資料2は資料1の家系図にも出てくる彰子に勉強を教える紫式部を描いたものです。資料3は一条天皇と彰子の間に生まれた皇子が女性にだかれている場面です。資料から考えられるものとして適切でないものを次のア～エのなかから1つ選び、記号で答えなさい。

資料1



資料2



資料3



- ア 藤原家の女性は天皇に気に入られるよう勉強をしていた。
- イ 藤原道長はこの後、天皇の祖父となり権力を握る。
- ウ 一条天皇と結婚した定子も彰子も天皇といとこの関係である。
- エ 藤原家は一族内で団結しており、対立することはなかった。

問9 下線部(ク)について、南北戦争中に奴隷解放宣言を出したことで有名な人物を次のア～エのなかから1つ選び、記号で答えなさい。

- ア チャーチル
- イ リンカン (リンカーン)
- ウ ニクソン
- エ ワシントン

問10 下線部(ク)について、この年に明治が終わり大正に年号が変更されました。明治時代から大正時代にかけて活躍した文学者で、右の本の作者として適切なものを次のア～エのなかから1つ選び、記号で答えなさい。

- ア 石川啄木
- イ 太宰治
- ウ 与謝野晶子
- エ 夏目漱石



問11 下線部(ク)について、縄文時代の内容として適切なものを次のア～エのなかから1つ選び、記号で答えなさい。

- ア 小国間で戦いが始まった。
- イ 丸木舟で漁をした。
- ウ はにわが作られた。
- エ 青銅器を使用した。

問12 下線部(ク)について、この日用品が右の写真です。これは現代におけるなんでしょうか。適切なものを次のア～エのなかから1つ選び、記号で答えなさい。

- ア くし
- イ フォーク
- ウ ほうき
- エ 武器



問13 下線部(ク)について、遣唐使のなかでも、日本に帰国後、真言宗を開き、高野山金剛峰寺を中心に修行を行った人物として適切なものを次のア～エのなかから1つ選び、記号で答えなさい。

- ア 法然
- イ 行基
- ウ 空海
- エ 最澄

問14 下線部(セ)について、この人物に関することとして適切でないものを次のア～エのなかから1つ選び、記号で答えなさい。

- ア 強制的に検地を行い、石高制を導入した。
- イ キリスト教の宣教師を国外に追放した。
- ウ 農民の一揆を防ぐために刀狩を行った。
- エ 大阪の役で徳川家康に攻め滅ぼされた。

問15 下線部(ソ)について、常陸国は現在の何県のことか、適切なものを次のア～エのなかから1つ選び、記号で答えなさい。

- ア 高知県                      イ 滋賀県                      ウ 茨城県                      エ 長野県

問16 下線部(タ)について、春日大社の神様の使いは鹿と考えられています。動物を神のつかいとする神社は多く、右の八咫鳥を神の使いとする神社があります。その神社には古代から貴族も通い、その道は世界遺産「紀伊山地の霊場と参詣道」にもなっています。その神社として適切なものを次のア～エのなかから1つ選び、記号で答えなさい。



- ア 熊野神社                      イ 伏見稲荷大社                      ウ 八坂神社                      エ 鶴岡八幡宮

問17 下線部(チ)について、この人物は現在の東北地方の戦国大名です。では、東北地方で起きた出来事①～③と、東北地方の県の組み合わせとして適切なものを次のア～カのなかから1つ選び、記号で答えなさい。

- ① 会津藩が戊辰戦争で敗れた。
- ② 平泉を中心に奥州藤原氏が栄えた。
- ③ 多賀城が設置され、蝦夷と戦った。

- ア ①-宮城県      ②-岩手県      ③-福島県
- イ ①-宮城県      ②-福島県      ③-岩手県
- ウ ①-福島県      ②-宮城県      ③-岩手県
- エ ①-福島県      ②-岩手県      ③-宮城県
- オ ①-岩手県      ②-宮城県      ③-福島県
- カ ①-岩手県      ②-福島県      ③-宮城県

問18 下線部(ツ)について、この人物が皇帝だった国として適切なものを次のア～エのなかから1つ選び、記号で答えなさい。

- ア ドイツ                      イ イギリス                      ウ スペイン                      エ フランス

問19 下線部(テ)について、西洋の考え方を日本に広めた人物で、『学問のすゝめ』を書いた人物として適切なものを次のア～エのなかから1つ選び、記号で答えなさい。

- ア 津田梅子                      イ 福沢諭吉                      ウ 野口英世                      エ 岩倉具視

問20 下線部(ト)について、明治23年は西暦1890年です。この年に琵琶湖疎水が完成し、琵琶湖の水を京都市内に引くことが可能になりました。この疎水は滋賀県から京都市山科区を通り京都の市街地に入りますが、現在の京都市山科区で起きた出来事Ⅰ～Ⅲを古いものから年代順に正しく並べたものとして、適切なものを次のア～カのなかから1つ選び、記号で答えなさい。

- Ⅰ 病気の中臣鎌足が回復するように寺が建てられた。
- Ⅱ 応仁の乱後に、浄土真宗の蓮如が山科本願寺を建てた。
- Ⅲ 源義経が奥州藤原氏のもとへ向かうときに通過した。

- ア Ⅰ→Ⅱ→Ⅲ                      イ Ⅰ→Ⅲ→Ⅱ                      ウ Ⅱ→Ⅰ→Ⅲ
- エ Ⅱ→Ⅲ→Ⅰ                      オ Ⅲ→Ⅰ→Ⅱ                      カ Ⅲ→Ⅱ→Ⅰ

問21 下線部(ナ)について、この年、イギリスからのインド独立を目指して運動を行った人物が暗殺されました。その人物として適切なものを次のア～エのなかから1つ選び、記号で答えなさい。

- ア ガンディー                      イ マザー=テレサ                      ウ キング牧師                      エ マンデラ

問22 下線部(ニ)について、この年に日本と中国は戦争で断絶していた国交を回復します。このときに中国からおくられた動物として適切なものを次のア～エのなかから1つ選び、記号で答えなさい。



問23 文章中の空欄( 1 )～( 8 )に適切な語句を入れなさい。

( 4 ) はもともと堺の商人であったが、織田信長や豊臣秀吉のような権力者に保護された茶人の名前が入る。( 6 ) は、日本にやってきたオランダ人が住むことを強制された海に浮かぶ人工の島の名前が入る。


1

問 1	問 2	問 3	問 4	問 5	問 6	問 7	
問 8	問 9	問10	問11	問12	問13	問14	問15
問16	問17	問18	問19	問20			

2

問 1	問 2	問 3	問 4	問 5	問 6	問 7	問 8
問 9	問10	問11	問12	問13	問14	問15	問16
問17	問18	問19	問20	問21	問22	問23(1)	
問23(2)	問23(3)	問23(4)	問23(5)				
問23(6)	問23(7)	問23(8)					

↓ここにシールを貼ってください↓



2611200