

関西大倉中学校 プレテスト

(平成 27年 11月 15日 実施)

社会

(解答はすべて解答用紙に記入しなさい)

1 次の文章を読み、あとの問いに答えなさい。

みなさんは外来生物、または外来種という言葉を知っていますか。もともとその地域にいなかったのに、人間の活動によって他の地域から入ってきた生物のことを言います。人類は世界中で多くの生き物を利用して生きてきました。その中には家畜やペットなど、私たちの生活に欠かせない生き物もたくさんいます。しかし、これらの生き物が世界中の多くの場所に持ち込まれて野外に放されたり、逃げ出したりすることで、今までの自然環境や野生生物に深刻な悪影響を及ぼす事が増えてきました。

外来生物は、全てがその場で野生化して生息出来るとは限らず、その多くが持ち込まれた先の①気候に合わなかったり、食べ物がなかったりして死に絶えてしまいます。しかし、少ないながらも新しい環境に適応して実際に被害が起きた場合は、深刻な影響をもたらします。

日本は世界中の多くの国と②貿易を行っていますが、野生生物の輸入大国でもあり、届け出の義務のない一部の昆虫や魚類なども含めて多くの種類が日本に入ってきました。しかも輸入された多くの生き物たちがどこに行き、さらに病原菌を持っているのか、人や野生の生物にどのような影響を及ぼすのかも詳しくわかっていないことも多いのです。外来生物は、もともとその場所にいた動植物を食べて全滅させてしまうなど、その土地の生態系を崩してしまうことも少なくありません。これが進めば、野菜や木材の質・量の低下や、漁業資源の減少といった③農林業や④漁業への悪影響も考えられます。

では、具体的な例をあげてみましょう。沖縄本島や⑤奄美大島に持ち込まれたマングースや、⑥小笠原諸島に入ってきたグリーンアノールは、これらの地域にもともと生息していた多くの小動物、昆虫を食べ、中には絶滅の危機におちいった昆虫も出てきました。また、⑦利根川水系などで発見されることが増えたワニガメやカミツキガメなどは漁業用の網を食いちぎり大きな被害が出ています。さらに影響は日本国内だけではなく、ネズミや蚊を媒介として世界中で⑧感染症が広まり、⑨国連が注意を呼びかけている事例も多数有ります。

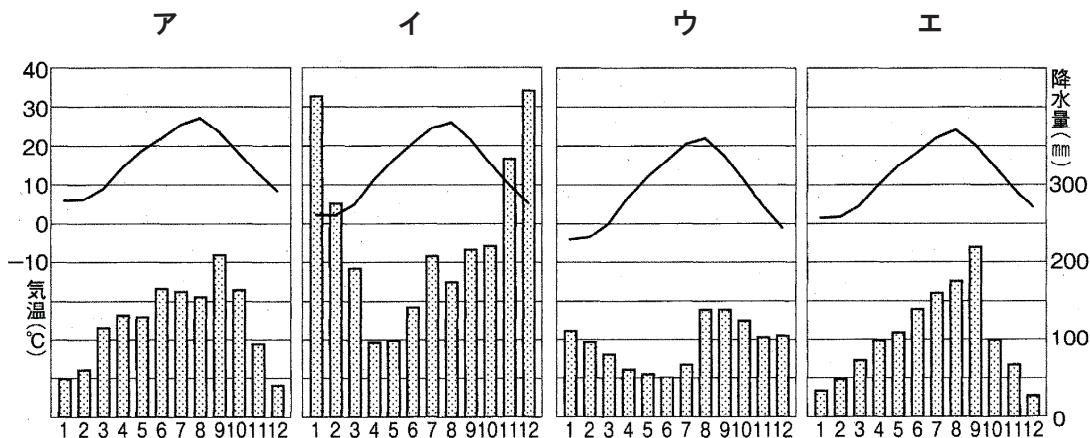
このような状況の中、事態の悪化を防ぐために世界中の多くの国が外来生物に対する対策を始めました。⑩日本政府も環境行政に注意を払うようになり、2004年6月に特定外来生物法が⑪国会で成立し、外来種規制を定めた初の⑫法が翌年から施行されました。さらに各都道府県でも外来種に関する条例を作り始め、琵琶湖では釣り上げた外来魚の再放流を禁止することが条例に盛り込まれました。

この地球上では、ありとあらゆる野生生物が数十億もの年月をかけて複雑な生態系を築き上げ、それは私たち人間に食料や⑬燃料など、さまざまな恩恵を与えてくれています。しかし現在、⑭人口増加や人間の活動が原因で多くの生物が絶滅の危機に迫られています。さまざまな生物が生きることが出来る、その土地本来の生態系を維持することは私

たちの責務ではないでしょうか。開発や⑮環境汚染、地球温暖化など自然破壊の原因はたくさんありますが、その1つに外来種問題もあげられます。今後も私たちの子孫に自然の恵みを伝えていくためには、外来生物への対策も決して欠かすことは出来ないでしょう。

問 1 下線部①について、日本は地域により気候が大きく異なります。6月から8月頃にかけて北海道や東北、関東の太平洋側で吹き、冷害の原因ともなる風を答えなさい。

問 2 下線部①について、下の図は札幌(北海道)、仙台(宮城県)、上越(新潟県)、東京(東京都)のいずれかの月別平均気温と降水量を表しています。上越(新潟県)に当てはまるものをア～エの中から1つ選び、記号で答えなさい。



【2010/2011 日本国勢図会】

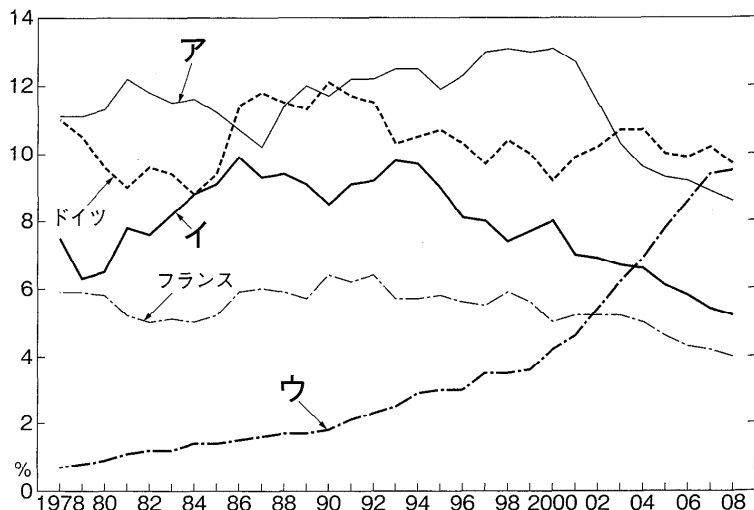
問 3 下線部②について、下の表は日本の輸出額と輸入額を表したものです。表中 (あ)・(い) に入る語句の組み合わせとして正しいものを、次のア～エの中から1つ選び、記号で答えなさい。

	輸出 (百万ドル)	輸入 (百万ドル)
1位	(あ)・290897	(い)・155474
2位	自動車・170133	(あ)・136425
3位	鉄鋼・44106	液化天然ガス・44933
4位	精密機械・31839	石炭・30493

【2010/2011 日本国勢図会】

- ア (あ) 機械類 (い) 原油
 イ (あ) 金属製品 (い) 原油
 ウ (あ) 石油製品 (い) 機械類
 エ (あ) 有機化合物 (い) 石油製品

問 4 下線部②について、下の表は世界の輸出貿易に占める上位 5 か国の割合を示しています。日本に当てはまるものをア～ウの中から 1 つ選び、記号で答えなさい。



【2010/2011 日本国勢図会】


問 5 下線部③について、日本には三大美林とよばれる森林が存在します。青森で全国の 70 %以上が産出される木材の種類を次のア～エの中から 1 つ選び、記号で答えなさい。

- ア スギ イ ブナ ウ ヒノキ エ ヒバ

問 6 下線部③について、日本は国土の約 3 分の 2 が森林におおわれています。日本の森林面積の割合で最も高いものを次のア～ウの中から 1 つ選び、記号で答えなさい。

- ア 公有林 イ 国有林 ウ 私有林

問 7 下線部④について、下の図の漁法の名前として正しいものを次のア～エの中から 1 つ選び、記号で答えなさい。



- ア まきあみ漁 イ はえなわ漁
ウ 底びきあみ漁 エ 棒受けあみ漁

問 8 下線部④について、プランクトンの異常発生で、海面が赤く染まる現象を答えなさい。

問 9 下線部⑤について、奄美大島は何県に属するか漢字で答えなさい。

問 10 下線部⑥について、小笠原諸島は日本にある世界自然遺産の 1 つです。北海道にある世界自然遺産を漢字で答えなさい。

問 11 下線部⑦について、利根川の流域面積は日本最大とされています。流域面積が日本で 3 番目、長さが日本一の河川を次のア～エの中から 1 つ選び、記号で答えなさい。

ア 信濃川 イ 石狩川 ウ 北上川 エ 吉野川

問 12 下線部⑧について、2014 年に西アフリカで大流行した非常に高い死亡率と感染力を持つ感染症を次のア～エの中から 1 つ選び、記号で答えなさい。

ア デング熱 イ 黄熱病 ウ ペスト エ エボラ出血熱

問 13 下線部⑨について、国連の説明として誤っているものを次のア～エの中から 1 つ選び、記号で答えなさい。

- ア 本部はニューヨークに置かれている。
- イ 総会では 1 国 1 票制がとられている。
- ウ アメリカ合衆国、イギリス、ロシア、ドイツ、中華人民共和国が安全保障理事会の常任理事国となっている。
- エ 発足当初は 51 かが国が加盟していた。

問 14 下線部⑩について、地方公共団体の財源不足をおぎなうために、地方公共団体にわたされる資金を何というか答えなさい。

問 15 下線部⑩について、日本の選挙制度の説明として誤っているものを次のア～エの中から 1 つ選び、記号で答えなさい。

- ア 衆議院議員の被選挙権は 25 歳以上である。
- イ 参議院議員選挙では、小選挙区比例代表並立制がとられている。
- ウ 日本では直接選挙が行われ、公職選挙法に基づいて選挙が行われている。
- エ 参議院議員の任期は 6 年である。

問 16 下線部⑪について、国会の仕事として誤っているものを次のア～エの中から 1 つ選び、記号で答えなさい。

- ア ^{ないかく} 内閣総理大臣の任命
ウ 内閣不信任の議決

- イ 予算の議決
エ 条約の承認^{しょうにん}

問 17 下線部⑫について、次の文章は日本国憲法第 14 条の一文である。文中の (あ)・(い) に入る言葉をそれぞれ答えなさい。

すべて国民は (あ) の下に平等であって、(い)、信条、性別、社会的身分^{また}又は門地により、政治的、^{けいざいてき}経済的又は社会的関係において、差別されない。

問 18 下線部⑬について、日本は原油の多くを輸入に頼^{たよ}っています。下の表は日本の原油の輸入先を表していますが、表中 (あ) に入る国を次のア～エの中から 1 つ選び、記号で答えなさい。

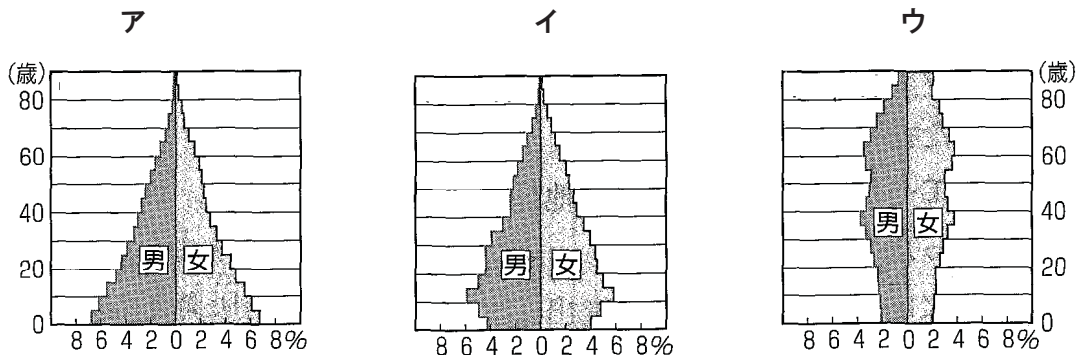
	輸入 (千 kl)
1 位	(あ)・67905
2 位	アラブ首長国連邦 ^{れんぽう} ・45449
3 位	カタール・25378
4 位	イラン・23856

【2010/2011 日本国勢図会】

- ア ロシア
ウ 中華人民共和国

- イ アメリカ合衆国
エ サウジアラビア

問 19 下線部⑭について、2009 年度の日本の人口ピラミッドとして正しいものを、次のア～ウの中から 1 つ選び、記号で答えなさい。



【2010/2011 日本国勢図会】

問 20 下線部⑭について、人口が大幅に減少し、その地域の生活や経済活動が十分に機能していない状態を何というか答えなさい。

問 21 下線部⑮について、地球サミットが行われた結果、地球環境の保全を目的に 1993 年に日本で制定された法律を答えなさい。

2 次の防災教育の宿題として、日本の地震について調べていた史生君と先生の会話文と史生君が提出した「地震の年表」について、あとの問いに答えなさい。

先生 「史生君。宿題のほうはでき上がったかな。」

史生 「はい。先生。江戸時代までを年表にまとめてみました。その中の安政の大地震（1855年）のところで『鯰絵』というものが出てきたのですが、なかなか資料が見つかりませんでした。」

先生 「史生君。次の2枚の絵を見てごらん。これが鯰絵といって、地震に関係したものだよ。」

(図ア) 「捕まえました三度の大地震」

つくば 筑波大学附属図書館所蔵



(図イ) 「地震のまもり」

国際日本文化研究センター所蔵



史生 「へえ。面白そうですね。」

先生 「それでは簡単に図の説明をしよう。いずれも安政の大地震後にブームとなった鯰絵と呼ばれる瓦版で、新聞の号外に当たるものだ。当時は、茨城県の鹿島神宮の鹿島大明神が剣や岩「要石」で大鯰を押さええていたので※ 1 神無月に地震が起きると信じられていた。この地元のサッカーチームとも関係の深い鹿島神宮の境内に、現在も凹型の直径 30 cm・高さ 7 cmほどの霊石があります。かつて、御三家の一つである (①) 藩主徳川光圀が、見た目は小さいが地中部分は大きく決して抜くことはできないと言い伝えられていたこの「要石」の周りを、7日7晩掘らせたが、穴は翌朝には元に戻ってしまい根元には届かなかったそうです。1855(安政2)年、その10月に江戸で大地震が実際に起きたんだ。震源地は江戸川河口とされ、M6.9 死者4,300人、倒壊家屋約14,000戸以上。下町を中心に多数の家屋がこわれて火災が発生。江戸湾には津波も来襲した。(図ア)は、鹿島大明神がいけどりした安政江戸地震鯰・1847(弘化4)年の善光寺地震鯰・② 1853(嘉永6)年の小田原地震鯰三匹の鯰に縄をかけ江戸屋という蒲焼屋に連行、地震でもうかる (③)、鳶職、左官の五人が助けてやってくれと懇願するものの、神様は断固として鯰をゆるさず、「今

後再び地震がおきないためになべ焼きにしろ」と命じてたようだ。(図イ)は「地震のまもり」と題されて、鹿島大明神に連れられた鯰が、井戸の神と地の神を従えた天照大明神の前で、手形を押してわびを入れている。手形の証文には、地震除けの※²梵字の呪文が刷りこまれ、切り抜いて家の東西南北にはっておくと再度地震が起きても被害を受けないという※³護符の役割を兼ねていることがわかるんだ。」


史生 「民衆は大鯰をこらしめる図をかいてうさばらしをしたのかも知れませんね。」

先生 「先生もそう思うよ。それにしても、これらの鯰絵は、震災の5日後には380種余り、10日後には400種類も出されていたらしいよ。」

史生 「先生。以前、歴史の本でひょうたんと鯰が描かれた絵画があったような気がします。」

先生 「よく覚えていたね。それでは次の2枚の作品を見比べてみよう。」

(図ウ)



(図エ)



史生 「よく似てますね。先生。(図ウ)は、室町文化で習った『④瓢箪図』じゃないですか。たしかすべすべとしたひょうたんでぬるぬるとしたナマズをどうやって捕まえるかといった禅問答の話だったと思います。」

先生 「このひょうたんと鯰というユニークな画題は後年の⑤浮世絵にも取り入れられたことがわかるね。滋賀県大津宿の民俗絵画である大津絵(図エ)では、ひょうたんを持った猿がナマズを押さえつけようとする姿を滑稽に描いた作品が数多く作られている。ほとんどが作者不詳であるこれらの作品は「瓢箪鯰」と総称され、「大津絵十種」(大津絵の代表的画題)の一つとして親しまれたんだ。」

史生 「とても勉強になりました。」

※1 日本中の神々が出雲大社に集合したため10月に諸国の神々がいなくなるという俗説

※2 梵語(サンスクリット)を表記するための文字

※3 災厄から身を守り、幸福を招くと信じられているお守り札

史生君が作った地震に関する年表

(1) 599年 大和国(奈良県)で地震

『日本書紀』の記述によると、地震が発生し建造物がごとごとく倒壊し、四方に命じて地震の神を祭らせたという。伝記によれば、⑥ 聖徳太子(厩戸王)が地震を予測して建物の補強を促し、地震後は税の免除を建言したと伝わる。

(2) 684年 西日本太平洋沿岸で地震

国司からの報告によれば、伊予温泉(道後温泉)や紀伊(和歌山県)の牟婁温泉(白浜温泉)がうもれて湧出が止まり、土佐(高知県)で津波が襲来し、地方の特産物を納めた(⑦)を運ぶ船が多数流失した。

(3) 745年 岐阜県美濃地方で地震

『続日本紀』によると、国司のやぐら、館、正倉、仏寺の堂、塔、民衆の家が被害を受け、少し触れると倒壊した。余震が続く間に、大安寺・⑧ 薬師寺・元興寺・興福寺の各寺および平城京で般若経など各経典を読ませた。

(4) 869年 三陸沖で地震

記録によると、陸奥国の国府である多賀城が倒壊し、雷鳴のような海鳴りが聞こえて津波が押し寄せた。地震発生後、天災や疫病の発生を防ぐため(⑨)の起源と言われている御霊会の儀式が行われた。この5年前には(⑩)が噴火して、広大な溶岩流の上に、青木が原の樹海が形成された。

(5) ⑪壇ノ浦の戦いの約4ヶ月後、京都で地震

鴨長明が随筆『⑫』で「山は崩れ海は傾き、土は裂けて岩は谷底にころげ落ちた。余震は3か月にもわたって続いた」とくわしく述べ、法勝寺や宇治川の橋などもこわれている。⑬『平家物語』には「この度の地震は、これより後もあるべしとも覚えざりけり、平家の怨霊にて、…」と記されている。

(6) 1361年 西日本太平洋沖で地震

⑭『太平記』には、阿波(徳島県)の雪湊で、「にわかには太山ごとくなる潮みなぎり来て、在家一千七百余宇、こく引塩に連て海底に沈しかば、家々に所有の僧俗男女、牛馬鶏犬、一も残さず底のもくずとなりけり…氷寒のはなはだしきこと冬至の前後のごとし。」と大津波で1700余りの家が流失し、盛夏にもかかわらず雪が降った様子も記されている。

(7) 1498年 東海道沖に地震

東海道沿岸の言い伝えによると「大地震之日、伊勢(三重県)、三河(愛知県)、駿河・伊豆(静岡県)に大浪打ち寄せ、海辺二三十町の民屋ことごとく溺水、人没命、そのほか牛馬類その数知らず…、前代未聞事なり。」とある。津波は鎌倉の⑮鶴岡八幡宮参道にも襲来し、高德院大仏殿は倒壊して、鎌倉の大仏が室町時代末に露坐となったとされる。

(8) 1596年 京都・伏見で地震

伏見城 天守閣が崩れ落ちて 500 人が圧死し、開眼供養前の方広寺の木造製大仏の胸と左手がくずれ落ちる。石田三成の告げ口で(⑯)の怒りを買ひ、謹慎中の加藤清正が第一番に(⑯)のいる伏見城へかけつけ、動けない(⑯)をおんぶして脱出させ、謹慎をとかれるという話が伝わる。

(9) ⑰ 1703年 関東南部で地震

江戸城の大手門付近の堀の水があふれるほどであったと記録されており、甲府徳川家に仕えていた(⑱)は、自叙伝のなかで「我初湯島に住みしころ、元禄十六癸未の年十一月廿二日の夜半過る程に地おびただしく震ひ、…」と地震の体験談を記している。

(10) ⑲ 1854年 房総半島から四国に津波

ロシア軍艦ディアナ号の記録では、伊豆の下田において地震動の後、15～20分後に津波が到達し、2回目に押し寄せた津波が5～6mに達し、昼過ぎまでに7、8回押し寄せ家屋を流出させた。湾内には大きな渦が生じ、碇泊中のディアナ号は浸水により何回も回転して大破した。

問 1 空所①に当てはまる、名称を答えなさい。

問 2 下線部②について、この年に艦隊を率いて浦賀に來航したアメリカ艦隊の長官を答えなさい。

問 3 空所③に当てはまらない職業は何か。次のア～オのなかから 2 つ選び、記号で答えなさい。

ア 大工 イ 屋根屋 ウ 露天商 エ 歌舞伎役者 オ 俳諧師

問 4 下線部④は、墨の濃淡で描かれた水墨画です。このあと、東山文化において水墨画を大成する人物の名前を答えなさい。

問 5 下線部⑤について、「見返り美人図」を描いた絵師の名前を答えなさい。

問 6 下線部⑥が行った内容として誤っているものを、次のア～エのなかから 1 つ選び、記号で答えなさい。

ア 小野妹子を隋に派遣した。

イ 役人の心得として憲法十七条を定めた。

ウ 姓の制度に代わる冠位十二階の制を定めた。

エ 大化の改新の詔を發表した。

問 7 空所⑦に当てはまる税の名前を、次のア～エのなかから 1 つ選び、記号で答えなさい。

ア 租 イ 庸 ウ 調 エ 年貢

問 8 下線部⑧の寺院は、当時の天皇が皇后の病気を治すことを願って建てました。この天皇を、次のア～エのなかから 1 つ選び、記号で答えなさい。

ア 聖武天皇 イ 桓武天皇 ウ 天武天皇 エ 推古天皇

問 9 空所⑨に当てはまるまつりを、次のア～エのなかから 1 つ選び、記号で答えなさい。

ア 七夕まつり イ ねぶたまつり ウ 博多どんたく エ 祇園まつり

問 10 空所⑩に当てはまる山を、次のア～エのなかから 1 つ選び、記号で答えなさい。

ア 浅間山 イ 阿蘇山 ウ 富士山 エ 大山

問 11 下線部⑪について、この出来事が起こった西暦を、次のア～エのなかから 1 つ選び、記号で答えなさい。

ア 1185 年 イ 1192 年 ウ 1221 年 エ 1274 年

問 12 空所⑫に当てはまる書名を、次のア～エのなかから 1 つ選び、記号で答えなさい。

ア 源氏物語 イ 徒然草 ウ 方丈記 エ 枕草子

問 13 下線部⑬を語りついだ法師が使用した楽器を、次のア～エのなかから 1 つ選び、記号で答えなさい。

ア ^{しやみせん}三味線 イ ^{びわ}琵琶 ウ ^{たいこ}太鼓 エ ^{わごと}和琴

問 14 下線部⑭の『太平記』は、南北朝の^{どうらん}動乱の様子を書いた軍記物語です。この動乱をしずめ、南北朝を統一した室町幕府 3 代将軍の名前を答えなさい。

問 15 下線部⑮を現在の地に移した^{ぼくふ}鎌倉幕府の^{しやうぐん}初代将軍の名前を答えなさい。

問 16 空所⑯に当てはまる人物の名前を答えなさい。

問 17 下線部⑰の年に初演された人形浄瑠璃『^{そねざき}曾根崎心中』の作者の名前を答えなさい。

問 18 空所⑱に当てはまる、^{しやうとく}正徳の^ち治を行った人物の名前を答えなさい。

問 19 下線部⑲の年に^{にちろ}日露和親条約が結ばれます。このあと、日本とロシアは日露戦争で争うこととなりますが、この戦争の講和条約の名前を答えなさい。

問 20 次にあげる世界遺産に登録されている建築物はいつ頃^{ごろ}に出来上がったものですか。次のア～コの中からそれぞれ選び、記号で答えなさい。ただし、数字は年表中の(1)から(10)を指します。

あ) ^{ちゆうそんじ}中尊寺金色堂 い) ^{ろくおんじきんかく}鹿苑寺金閣 う) ^{ほうりゆうじ}法隆寺 え) ^{とみおか}富岡製糸場

ア 1・2の間 イ 2・3の間 ウ 3・4の間
エ 4・5の間 オ 5・6の間 カ 6・7の間
キ 7・8の間 ク 8・9の間 ケ 9・10の間
コ 10の後